

Pruebas de Acceso a la  
Educación Superior (PAES)



ClavijeroGPT

# PRUEBA DE CIENCIAS - QUÍMICA

## FORMA 173

- Respuestas y explicaciones generadas por IA de las preguntas del ensayo
- Claves de las preguntas

EvoAcademy



@evoacdm

# **SOBRE ESTE DOCUMENTO**

¿Te imaginas ChatGPT dando la PAES?

En este documento encontrarás las explicaciones y claves generadas con Inteligencia Artificial de este ensayo de la PAES. En particular usamos GPT4.0, el modelo de Inteligencia Artificial que está detrás de ChatGPT.

En este experimento buscamos probar las capacidades de la Inteligencia Artificial en el contexto Chileno. OpenAI, los creadores de ChatGPT, hicieron pruebas usando otros exámenes, como el SAT (el equivalente a la PAES en Estados Unidos), y lograron resultados sorprendentes.

En un experimento pasado logramos que ChatGPT lograra obtener hasta 960 puntos en la PAES de Historia.

Recientemente ChatGPT adquirió la capacidad de “ver”, por lo que ahora puede responder más tipos de preguntas y podremos ponerlo a prueba con todas las materias.

Aprende más sobre como se generó este y los otros clavijeros con Inteligencia Artificial en este post <https://evoacademy.cl/paes-gpt-admision-2024>

Nota: existe una alta probabilidad de que este clavijero contenga respuestas incorrectas proporcionadas por la IA. Se recomienda discreción en su uso

## **SOBRE NOSOTROS**

EvoAcademy es una organización dedicada a la capacitación en temas de tecnología e inteligencia artificial.

Síguenos en [evoacademy.cl](https://evoacademy.cl)

Escríbenos a [contacto@evoacademy.cl](mailto:contacto@evoacademy.cl)

# Ciencias - Química

## Clavijero PAES Proceso Admisión 2024

GPT4-Vision

Diciembre 2023

La siguiente tabla contiene las respuestas a la prueba de Ciencias - Química PAES Admisión 2024 usando el modelo GPT4-Vision que está detrás de ChatGPT. Le pedimos que nos indicara la alternativa correcta y que explicara paso a paso su respuesta. Tales explicaciones pueden ser encontradas en la página siguiente.

**Recuerda:** existe una alta probabilidad de que este clavijero contenga respuestas incorrectas proporcionadas por ChatGPT. Te invitamos a consultar las explicaciones en la página siguiente. Al momento de la publicación de este documento, DEMRE no ha publicado el clavijero oficial. **Se recomienda discreción en su uso.**

| CLAVES |       | CLAVES |       | CLAVES |       | CLAVES |       |
|--------|-------|--------|-------|--------|-------|--------|-------|
| Nº     | Clave | Nº     | Clave | Nº     | Clave | Nº     | Clave |
| 1      | D     | 23     | A     | 45     | A     | 67     | B     |
| 2      | A     | 24     | D     | 46     | C     | 68     | C     |
| 3      | B     | 25     | B     | 47     | E     | 69     | B     |
| 4      | A     | 26     | A     | 48     | C     | 70     | A     |
| 5      | C     | 27     | B     | 49     | C     | 71     | B     |
| 6      | B     | 28     | A     | 50     | C     | 72     | E     |
| 7      | D     | 29     | A     | 51     | B     | 73     | D     |
| 8      | A     | 30     | C     | 52     | A     | 74     | D     |
| 9      | C     | 31     | A     | 53     | C     | 75     | C     |
| 10     | E     | 32     | D     | 54     | A     | 76     | *     |
| 11     | C     | 33     | D     | 55     | D     | 77     | B     |
| 12     | E     | 34     | C     | 56     | C     | 78     | B     |
| 13     | D     | 35     | D     | 57     | A     | 79     | A     |
| 14     | C     | 36     | C     | 58     | A     | 80     | C     |
| 15     | C     | 37     | C     | 59     | B     |        |       |
| 16     | A     | 38     | C     | 60     | A     |        |       |
| 17     | C     | 39     | B     | 61     | A     |        |       |
| 18     | B     | 40     | C     | 62     | D     |        |       |
| 19     | D     | 41     | D     | 63     | A     |        |       |
| 20     | C     | 42     | D     | 64     | D     |        |       |
| 21     | C     | 43     | B     | 65     | B     |        |       |
| 22     | D     | 44     | C     | 66     | A     |        |       |

Respuestas entregadas por ChatGPT con GPT4-Vision. En las preguntas con claves \*, ChatGPT indica que ninguna de las alternativas entregadas sería la respuesta correcta.

## Explicaciones

Estos textos fueron generados usando el modelo GPT4-Vision y son la explicación a las respuestas de la tabla con los clavijeros anteriores.

### PREGUNTA 1

Primero, observamos que el estudiante intentó mezclar agua y aceite en diferentes condiciones: agitando manualmente, agitando con un instrumento de laboratorio, y aumentando la temperatura. En todos los casos, el resultado fue el mismo: el aceite y el agua no se mezclaron y se separaron en capas, con el aceite en la parte superior y el agua en la parte inferior.

Ahora, analicemos las opciones dadas:

A) El tiempo de agitación de las sustancias impide la formación de una mezcla homogénea.

- Esta opción no parece correcta porque el estudiante intentó agitar la mezcla durante diferentes períodos de tiempo (1 minuto y 10 minutos) y no hubo cambio en el resultado.

B) El volumen añadido de cada sustancia impide la formación de una mezcla homogénea.

- Esta opción tampoco parece correcta porque el estudiante usó el mismo volumen de cada sustancia (5 mL de agua y 5 mL de aceite) y el resultado fue el mismo en todos los intentos.

C) La temperatura a la que están sometidas las sustancias impide la formación de una mezcla homogénea.

- Esta opción tampoco es correcta porque el estudiante intentó aumentar la temperatura en el último intento y aún así las sustancias no se mezclaron.

D) La diferencia de polaridad entre las sustancias impide la formación de una mezcla homogénea.

- Esta opción parece ser la correcta. El agua es una molécula polar, mientras que el aceite es una sustancia no polar. Las moléculas polares y no polares no se mezclan bien debido a sus diferentes afinidades por las interacciones intermoleculares. El agua forma enlaces de hidrógeno entre sus moléculas, mientras que el aceite, al ser no polar, no puede formar este tipo de enlaces con el agua. Por lo tanto, la diferencia de polaridad entre el agua y el aceite impide que se mezclen y formen una solución homogénea, independientemente del tiempo de agitación o la temperatura.

Por lo tanto, la respuesta correcta es:

D) La diferencia de polaridad entre las sustancias impide la formación de una mezcla homogénea.

### PREGUNTA 2

Para abordar la hipótesis de que las botellas explotaron debido al aire que quedó en ellas, necesitamos entender cómo los cambios de temperatura afectan tanto al agua como al aire dentro de las botellas. La hipótesis sugiere que el aire es el responsable de la explosión, lo que implica que el cambio de temperatura podría haber causado una expansión del aire o del agua, o ambos, llevando a un aumento de la presión dentro de la botella hasta el punto de hacerla explotar.

La opción A) “¿Cómo afecta el cambio de temperatura al volumen del agua y el aire contenidos en la botella?” es la más relevante para investigar la hipótesis planteada. Esto se debe a que al congelar el agua, su volumen se expande, y si el aire también se expande o no puede escapar de la botella, la presión interna podría aumentar lo suficiente como para romper el vidrio. Esta pregunta se centra en los efectos físicos directos que podrían haber causado la explosión.

La opción B) “¿Cómo cambia la composición química del agua y del aire al bajar la temperatura?” no es tan relevante, ya que la composición química del agua y del aire no cambia significativamente con la temperatura, y no es un factor que contribuiría directamente a la explosión de las botellas.

La opción C) “¿Cómo cambia el material de la botella que contiene el agua y el aire al disminuir la temperatura?” podría ser relevante en el sentido de que el vidrio podría volverse más frágil a bajas temperaturas, pero no aborda directamente la cuestión del aire y su posible expansión.

La opción D) “¿Cómo cambia la presión del aire y la temperatura del agua al utilizar una botella de vidrio?” también es relevante, pero es menos específica que la opción A) en cuanto a la relación entre el cambio de temperatura y el volumen del agua y el aire, que es el núcleo de la hipótesis.

Por lo tanto, la opción A) es la que mejor permitiría iniciar una investigación para corroborar o refutar la hipótesis planteada.

### PREGUNTA 3

Para determinar cuál de las opciones es correcta, debemos analizar la relación entre la masa de arena retenida y el tamaño de los poros de cada tamiz. La lógica detrás de esto es que un tamiz con poros más grandes permitirá que pasen más partículas de arena, reteniendo menos masa, mientras que un tamiz con poros más pequeños retendrá más masa de arena.

Veamos cada opción:

A) El tamiz Z retiene 44,5 g de arena, mientras que el tamiz R retiene 22,1 g. Dado que el tamiz Z retiene más masa, podemos inferir que tiene poros más pequeños que el tamiz R. Por lo tanto, la opción A es incorrecta.

B) El tamiz Q retiene 30,0 g de arena, y el tamiz T retiene 38,7 g. Siguiendo la lógica anterior, el tamiz T tiene poros más pequeños que el tamiz Q porque retiene más masa. Por lo tanto, la opción B es correcta.

C) El tamiz W retiene 28,2 g de arena, y el tamiz X retiene 16,5 g. Como el tamiz W retiene más masa, tiene poros más pequeños que el tamiz X. Por lo tanto, la opción C es incorrecta.

D) El tamiz F retiene 69,8 g de arena, y el tamiz P retiene 49,8 g. El tamiz F tiene poros más pequeños que el tamiz P porque retiene más masa. Por lo tanto, la opción D es incorrecta.

La única opción correcta es la B, que afirma que el diámetro de los poros del tamiz Q es menor en comparación al tamiz de T.

### PREGUNTA 4

Para confirmar que ocurre un cambio químico cuando se agrega vinagre al sarro en el hervidor, debemos buscar evidencias de una reacción química. Las reacciones químicas suelen estar acompañadas de ciertas señales, como la formación de un nuevo producto, cambio de color, producción de gas (burbujas), cambio de temperatura, entre otros.

Ahora, analicemos las opciones dadas:

A) Presencia de burbujas al agregar el vinagre al hervidor: La formación de burbujas es una señal común de que se está produciendo un gas como resultado de una reacción química. En este caso, el ácido acético del vinagre puede reaccionar con el carbonato de calcio del sarro, produciendo dióxido de carbono ( $\text{CO}_2$ ), agua y acetato de calcio. La presencia de burbujas indicaría la liberación de  $\text{CO}_2$  y, por lo tanto, confirmaría que está ocurriendo un cambio químico.

B) Aumento del volumen al agregar el vinagre al hervidor: Un aumento de volumen no necesariamente indica una reacción química. Podría ser simplemente una mezcla física de dos líquidos sin que ocurra una transformación química.

C) Cambio de estado del sarro al agregar el vinagre al hervidor: Un cambio de estado (de sólido a líquido, por ejemplo) no es una evidencia concluyente de una reacción química, ya que podría ser simplemente un cambio físico, como la disolución del sarro en el vinagre y el agua caliente.

D) Fragmentación del sarro en pequeños pedazos al agregar el vinagre al hervidor: La fragmentación podría ser el resultado de una reacción química, pero también podría ser simplemente una desintegración física del sarro debido a la acción del ácido sobre su estructura.

De las opciones presentadas, la que más claramente indica que está ocurriendo un cambio químico es la A) Presencia de burbujas al agregar el vinagre al hervidor, ya que esto sugiere la formación de un gas como producto de una reacción química entre el vinagre y el sarro.

### PREGUNTA 5

El compuesto mostrado en la imagen tiene un grupo funcional característico que podemos identificar observando la disposición de los átomos y los enlaces entre ellos. El grupo funcional presente es el que está compuesto por el átomo de carbono que tiene un doble enlace con un átomo de oxígeno ( $\text{C} = \text{O}$ ) y un enlace simple con un grupo amino ( $-\text{NH}$ ) que a su vez está unido a un grupo metilo ( $-\text{CH}_3$ ).

Este grupo funcional específico, donde un átomo de carbono está doblemente enlazado a un oxígeno y también enlazado a un nitrógeno, es característico de las amidas. Las amidas son compuestos orgánicos que contienen el grupo funcional  $-CONH_2$  o una variante de este grupo donde el hidrógeno puede ser reemplazado por otro grupo alquilo o arilo.

Por lo tanto, la respuesta correcta es:

C) una amida.

## PREGUNTA 6

La oración entre comillas dice: “personas expuestas a través de la respiración o el contacto de la piel durante largos períodos de tiempo con mezclas que contienen HAP’s pueden contraer cáncer”. Esta oración está presentando un resultado observado en estudios realizados en humanos, donde se ha notado una correlación entre la exposición a HAP’s y el desarrollo de cáncer.

Dado que la oración está presentando un resultado observado, no se trata de la descripción de un procedimiento experimental (A), que sería más detallado en cuanto a cómo se llevó a cabo el estudio. Tampoco es la formulación de una hipótesis (C), ya que una hipótesis es una suposición o predicción que aún no ha sido confirmada. Además, no es la postulación de una teoría (D), ya que una teoría es un principio establecido que ha sido confirmado a través de múltiples investigaciones y que explica un fenómeno.

Por lo tanto, la oración entre comillas corresponde a la presentación de una conclusión (B), ya que está resumiendo los hallazgos de los estudios realizados en humanos sobre la relación entre la exposición a HAP’s y el riesgo de contraer cáncer.

## PREGUNTA 7

Para determinar el objetivo que pudo guiar los ensayos realizados por los investigadores, debemos analizar la información proporcionada en la pregunta y en las imágenes.

La primera imagen muestra la estructura química de la boldina, una molécula orgánica obtenida del boldo. La segunda imagen muestra una tabla con derivados de la boldina y su capacidad antiinflamatoria, indicada por la cantidad de signos más (+).

Al observar los derivados de la boldina en la tabla, podemos notar que cada uno tiene una estructura química ligeramente diferente, lo que sugiere que los investigadores estaban interesados en cómo los cambios en la estructura de la molécula afectan su capacidad antiinflamatoria.

Las opciones proporcionadas son:

- A) Indagar sobre la cantidad de grupos funcionales en la estructura de la boldina y su relación con la capacidad antiinflamatoria.
- B) Indagar sobre diversos compuestos que se pueden obtener de árboles endémicos de Chile y sus capacidades antiinflamatorias.
- C) Indagar sobre la relación entre el cambio de posición de un grupo funcional en la estructura de la boldina y su capacidad antiinflamatoria.
- D) Indagar sobre la incorporación de nuevos grupos funcionales a la molécula de boldina y su capacidad antiinflamatoria.

La opción A no parece ser la correcta porque no hay información que sugiera que los investigadores estaban contando los grupos funcionales o comparando la cantidad de estos.

La opción B tampoco parece adecuada, ya que la pregunta se centra específicamente en la boldina y sus derivados, no en una variedad de compuestos de diferentes árboles.

La opción C es plausible, ya que los derivados de la boldina mostrados en la tabla tienen grupos funcionales en diferentes posiciones, lo que podría indicar que los investigadores estaban interesados en cómo el cambio de posición de estos grupos afecta la actividad antiinflamatoria.

La opción D también es plausible, ya que los derivados pueden tener grupos funcionales adicionales o modificados en comparación con la molécula original de boldina, lo que sugiere que los investigadores podrían estar interesados en cómo la incorporación de nuevos grupos funcionales afecta la capacidad antiinflamatoria.

Para elegir entre las opciones C y D, debemos observar más detenidamente los derivados de la boldina en la tabla. Si los cambios consisten principalmente en la posición de los grupos funcionales existentes, la opción C sería la más adecuada. Si los cambios incluyen la adición de nuevos grupos funcionales, entonces la opción D sería la más adecuada.

Al observar los derivados, parece que hay cambios en la posición de los grupos funcionales (como el grupo metoxi  $-OCH_3$  y el grupo hidroxilo  $-OH$ ) así como la posible adición de nuevos grupos (como el grupo metilo  $-CH_3$  en la primera estructura derivada). Esto hace que la elección entre C y D sea más difícil sin más información específica sobre los cambios realizados en cada derivado.

Sin embargo, dado que la opción C se enfoca específicamente en el cambio de posición y la opción D en la incorporación de nuevos grupos funcionales, y la tabla muestra tanto cambios de posición como posibles adiciones, la opción más inclusiva y que mejor refleja los cambios observados sería la D.

Por lo tanto, la respuesta más adecuada parece ser:

D) Indagar sobre la incorporación de nuevos grupos funcionales a la molécula de boldina y su capacidad antiinflamatoria.

## PREGUNTA 8

Para determinar la respuesta correcta, primero debemos entender el propósito de las reglas de nomenclatura orgánica. La nomenclatura en química sirve para proporcionar un sistema estandarizado y universal de nombrar compuestos químicos de manera que los científicos puedan comunicarse de manera clara y precisa sobre qué compuestos están discutiendo, sin ambigüedad o confusión.

Ahora, vamos a analizar cada opción:

A) Esta opción sugiere que las reglas de nomenclatura orgánica están diseñadas para eliminar la confusión y asegurar que todos entiendan a qué compuesto se refiere un nombre dado. Esto es consistente con el propósito de tener un sistema estandarizado de nomenclatura.

B) Esta opción sugiere que las reglas están diseñadas para permitir múltiples nombres para cada compuesto y reconocer similitudes sin importar su procedencia. Sin embargo, esto iría en contra del propósito de tener un sistema estandarizado, ya que múltiples nombres para un mismo compuesto podrían causar confusión.

C) Esta opción sugiere que las reglas están diseñadas para destacar la importancia de los compuestos basándose en sus similitudes estructurales. Aunque las similitudes estructurales son importantes, el propósito principal de la nomenclatura no es destacar la importancia de los compuestos, sino proporcionar una forma clara y precisa de identificarlos.

D) Esta opción sugiere que las reglas solo se aplican para diferenciar compuestos con la misma cantidad de átomos. Esto es demasiado específico y no abarca el propósito general de la nomenclatura, que es proporcionar un sistema de nombramiento para todos los compuestos orgánicos, independientemente de su composición atómica.

Por lo tanto, la opción A es la explicación correcta del porqué se establecen las reglas de la nomenclatura orgánica.

## PREGUNTA 9

En un experimento, la variable dependiente es aquella que se mide o se observa en respuesta a la manipulación de la variable independiente. La variable independiente es aquella que el investigador cambia o controla para observar su efecto en la variable dependiente.

En el experimento descrito, los investigadores están añadiendo cantidades crecientes de  $CO_2$  a los estanques para observar su efecto en los corales. Por lo tanto, la cantidad de  $CO_2$  es la variable independiente, ya que es lo que los investigadores están manipulando.

La variable dependiente debe ser el resultado que se observa en respuesta a la manipulación de la variable independiente. En este caso, los investigadores están observando el blanqueamiento de los corales, que es el efecto que se produce debido a la presencia de  $H_2CO_3$  y la disminución en la población de algas asociada con el aumento de  $CO_2$ .

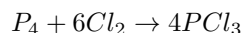
Por lo tanto, la respuesta correcta es:

C) La variable dependiente es el blanqueamiento producido en los corales por presencia de  $H_2CO_3$ .

### PREGUNTA 10

Para resolver esta pregunta, primero necesitamos escribir la ecuación química balanceada de la reacción entre el fósforo ( $P_4$ ) y el cloro ( $Cl_2$ ) para formar tricloruro de fósforo ( $PCl_3$ ).

La ecuación química para esta reacción es:



Esta ecuación nos dice que una molécula de fósforo tetraédrico ( $P_4$ ) reacciona con seis moléculas de cloro diatómico ( $Cl_2$ ) para producir cuatro moléculas de tricloruro de fósforo ( $PCl_3$ ).

Ahora, vamos a revisar cada una de las opciones para ver cuál es correcta:

A) 4 moléculas de fósforo producen 4 moléculas de tricloruro de fósforo. - Esto es incorrecto porque 1 molécula de  $P_4$  (que contiene 4 átomos de fósforo) produce 4 moléculas de  $PCl_3$ , no 4 moléculas de  $P_4$ .

B) 2 moléculas de cloro producen 2 moléculas de tricloruro de fósforo. - Esto es incorrecto porque según la ecuación balanceada, se necesitan 6 moléculas de  $Cl_2$  para producir 4 moléculas de  $PCl_3$ .

C) 1 molécula de cloro produce 3 moléculas de tricloruro de fósforo. - Esto es incorrecto porque 1 molécula de  $Cl_2$  no puede producir 3 moléculas de  $PCl_3$ .

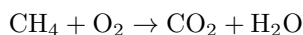
D) 1 átomo de fósforo produce 4 moléculas de tricloruro de fósforo. - Esto es incorrecto porque 1 átomo de fósforo solo puede producir 1 molécula de  $PCl_3$ .

E) 12 átomos de cloro producen 4 moléculas de tricloruro de fósforo. - Esto es correcto porque 6 moléculas de  $Cl_2$  (cada una con 2 átomos de cloro, por lo tanto, 12 átomos de cloro en total) producen 4 moléculas de  $PCl_3$ .

Por lo tanto, la respuesta correcta es la opción E) 12 átomos de cloro producen 4 moléculas de tricloruro de fósforo.

### PREGUNTA 11

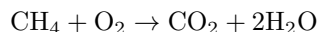
Para determinar la relación correcta en masa para la combustión completa del metano, primero debemos balancear la ecuación química dada. La ecuación química no balanceada es:



Balanceemos la ecuación:

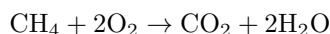
1. Comenzamos balanceando el carbono (C). Hay un átomo de carbono en el metano ( $CH_4$ ) y uno en el dióxido de carbono ( $CO_2$ ), por lo que el carbono ya está balanceado.

2. A continuación, balanceamos el hidrógeno (H). Hay cuatro átomos de hidrógeno en el metano y dos en cada molécula de agua. Por lo tanto, necesitamos dos moléculas de agua para balancear el hidrógeno:



3. Finalmente, balanceamos el oxígeno (O). Hay dos átomos de oxígeno en el dióxido de carbono y dos más en las dos moléculas de agua, lo que hace un total de cuatro átomos de oxígeno en los productos. Por lo tanto, necesitamos dos átomos de oxígeno en los reactivos, que ya están presentes en una molécula de  $O_2$ . La ecuación ya está balanceada.

La ecuación balanceada es:



Ahora, calculemos las masas molares de cada compuesto:

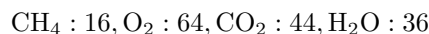


- CH<sub>4</sub>: 12.01 g/mol + 4 × 1.008 g/mol = 16.04 g/mol - O<sub>2</sub>: 2 × 16.00 g/mol = 32.00 g/mol - CO<sub>2</sub>: 12.01 g/mol + 2 × 16.00 g/mol = 44.01 g/mol - H<sub>2</sub>O: 2 × 1.008 g/mol + 16.00 g/mol = 18.02 g/mol

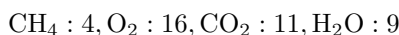
Dado que la ecuación está balanceada con coeficientes estequiométricos de 1, 2, 1 y 2 respectivamente, las relaciones en masa para una combustión completa serán:

- CH<sub>4</sub>: 1 × 16.04 g - O<sub>2</sub>: 2 × 32.00 g = 64.00 g - CO<sub>2</sub>: 1 × 44.01 g - H<sub>2</sub>O: 2 × 18.02 g = 36.04 g

Por lo tanto, la relación correcta en masa para la combustión completa del metano es:



Ninguna de las opciones dadas coincide exactamente con estos números, pero si consideramos la relación más simple entre las masas, donde dividimos todas las masas por el factor común más pequeño (en este caso, 4), obtenemos:

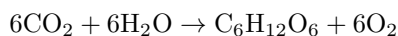


Por lo tanto, la respuesta correcta es:

C) CH<sub>4</sub> : 4, O<sub>2</sub> : 16, CO<sub>2</sub> : 11, H<sub>2</sub>O : 9

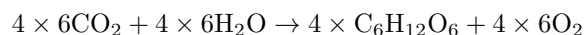
## PREGUNTA 12

Para resolver esta pregunta, primero debemos entender la ecuación química proporcionada, que representa la fotosíntesis:

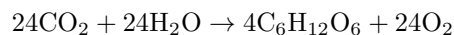


Esta ecuación nos dice que se necesitan 6 moléculas de dióxido de carbono (CO<sub>2</sub>) y 6 moléculas de agua (H<sub>2</sub>O) para producir 1 molécula de glucosa (C<sub>6</sub>H<sub>12</sub>O<sub>6</sub>) y 6 moléculas de oxígeno (O<sub>2</sub>).

Si queremos formar 4 moles de glucosa, necesitamos multiplicar todos los reactivos y productos de la ecuación por 4:



Esto nos da:



Por lo tanto, se necesitan 24 moles de agua para formar 4 moles de glucosa. Ahora, para convertir moles a moléculas, utilizamos el número de Avogadro, que es aproximadamente  $6.02 \times 10^{23}$  moléculas por mol. Multiplicamos la cantidad de moles de agua por el número de Avogadro:

$$24 \text{ moles de H}_2\text{O} \times 6.02 \times 10^{23} \text{ moléculas/mol}$$

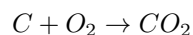
$$= 24 \times 6.02 \times 10^{23} \text{ moléculas de H}_2\text{O}$$

Por lo tanto, la respuesta correcta es:

E)  $24 \times 6.02 \times 10^{23}$

## PREGUNTA 13

Para resolver este problema, necesitamos recordar la ecuación química balanceada para la combustión completa del carbono:



De acuerdo con la estequiometría de la reacción, un mol de carbono (C) reacciona con un mol de oxígeno diatómico ( $O_2$ ) para producir un mol de dióxido de carbono ( $CO_2$ ).

Primero, determinemos la cantidad de moles de carbono que tenemos. La masa molar del carbono es aproximadamente 12 g/mol. Por lo tanto, si tenemos 48 g de carbono:

$$\text{Moles de C} = \frac{\text{Masa de C}}{\text{Masa molar de C}} = \frac{48g}{12g/mol} = 4 \text{ moles de C}$$

Ahora, dado que la relación estequiométrica entre el carbono y el oxígeno es de 1:1, necesitaremos 4 moles de oxígeno diatómico para reaccionar completamente con los 4 moles de carbono.

La masa molar del oxígeno diatómico ( $O_2$ ) es de aproximadamente 32 g/mol. Por lo tanto, la masa de oxígeno necesaria es:

$$\text{Masa de } O_2 = \text{Moles de } O_2 \times \text{Masa molar de } O_2 = 4 \text{ moles de } O_2 \times 32g/mol = 128g$$

Por lo tanto, la masa exacta de comburente (oxígeno) necesaria es de 128 g.

La respuesta correcta es la opción D) 128 g.

#### PREGUNTA 14

Para determinar la masa de oxígeno presente en la muestra de la sustancia X, necesitamos conocer la masa total de oxígeno que participó en la reacción. Esto incluye el oxígeno que estaba originalmente en la sustancia X y el oxígeno que se agregó en forma de  $O_2$  para la combustión.

La masa de  $H_2O$  absorbida nos da la cantidad de hidrógeno en la sustancia X, ya que cada molécula de agua se forma a partir de dos átomos de hidrógeno. De manera similar, la masa de  $CO_2$  absorbida nos da la cantidad de carbono, ya que cada molécula de dióxido de carbono contiene un átomo de carbono.

Para determinar la masa de oxígeno en la sustancia X, necesitamos saber cuánto oxígeno se consumió durante la combustión. Esto se puede hacer midiendo la masa de  $O_2$  que ingresa al sistema y la masa de  $O_2$  que no se consumió (es decir, el oxígeno que queda después de la reacción). La diferencia entre estas dos cantidades nos dará la masa de oxígeno que reaccionó.

Por lo tanto, la respuesta correcta es:

C) La masa de  $O_2$  que ingresa

Conocer la masa de  $O_2$  que ingresa nos permitirá calcular la masa de oxígeno que se consumió durante la combustión, y al restar la masa de oxígeno que se encuentra en el  $H_2O$  y  $CO_2$  formados, podremos determinar la masa de oxígeno que estaba presente en la sustancia X originalmente.

#### PREGUNTA 15

Para evaluar la validez de los datos presentados por la estudiante, debemos considerar lo que se espera al medir la conductividad eléctrica de soluciones salinas. La conductividad eléctrica de una solución depende de la presencia de iones que puedan transportar la corriente eléctrica. Al disolver sal de mesa, que es cloruro de sodio ( $NaCl$ ), en agua, se forman iones de sodio ( $Na^+$ ) y cloruro ( $Cl^-$ ), que son los que permiten la conducción de la electricidad.

Ahora, revisemos las opciones dadas:

A) El número de veces que la estudiante mide la conductividad de la solución es insuficiente para asegurar la confiabilidad del resultado.

- La tabla muestra que se realizaron 6 mediciones para cada concentración de sal, lo cual parece ser un número razonable de repeticiones para obtener un promedio confiable.

B) La masa de sal es insuficiente para realizar mediciones y a partir de ello establecer conclusiones.  
- La masa de sal varía desde 0,049 g hasta 10,240 g, lo que indica que se han probado distintas concentraciones. No hay evidencia en la tabla que sugiera que la masa de sal es insuficiente para realizar mediciones.

C) La estudiante ha omitido el volumen del agua empleado para preparar las soluciones salinas al momento de reportar sus datos.

- Esta opción es relevante porque la conductividad eléctrica depende de la concentración de iones en la solución, y la concentración se determina por la cantidad de sal disuelta en un volumen específico de agua. Sin conocer el volumen de agua, no se puede calcular la concentración real de la solución, y por lo tanto, no se pueden comparar adecuadamente las conductividades eléctricas.

D) Los resultados presentados por la estudiante incluyen la medida correspondiente al agua pura en lugar de variaciones de mezclas.

- La tabla no muestra un valor para la conductividad eléctrica del agua pura, sino que muestra valores para soluciones con diferentes masas de sal. Por lo tanto, esta opción no es correcta.

La opción correcta es la C, ya que para interpretar correctamente la conductividad eléctrica en relación con la concentración de la solución salina, es esencial conocer el volumen del agua en el que se disolvió la sal. Sin esta información, no se puede determinar la concentración de la solución, lo cual es un factor crítico para entender cómo la conductividad eléctrica varía con la concentración de la sal.

### PREGUNTA 16

Para predecir la solubilidad de los compuestos en diferentes solventes, podemos aplicar la regla general de "lo semejante disuelve a lo semejante". Esto significa que los compuestos tienden a ser solubles en solventes que tienen un carácter químico similar, es decir, los compuestos polares se disuelven mejor en solventes polares y los compuestos no polares se disuelven mejor en solventes no polares.

Analizando las opciones dadas:

- A) El tolueno puede disolver a la naftalina.
- B) El metanol puede disolver a la naftalina.
- C) El benceno puede disolver al amoníaco.
- D) El xileno puede disolver al cloruro de sodio.

La naftalina es un compuesto covalente no polar, por lo que se espera que sea soluble en solventes no polares.

El tolueno es un solvente no polar, por lo que es probable que pueda disolver a la naftalina, lo que hace que la opción A sea una inferencia correcta.

El metanol es un solvente polar, por lo que no es probable que disuelva bien a la naftalina, lo que hace que la opción B sea incorrecta.

El amoníaco es un compuesto covalente polar, y el benceno es un solvente no polar, por lo que no es probable que el benceno disuelva al amoníaco, lo que hace que la opción C sea incorrecta.

El cloruro de sodio es un compuesto iónico, que generalmente es soluble en solventes polares debido a la capacidad de estos para estabilizar los iones. El xileno es un solvente no polar, por lo que no es probable que disuelva al cloruro de sodio, lo que hace que la opción D sea incorrecta.

Por lo tanto, la inferencia correcta es:

**A) El tolueno puede disolver a la naftalina.**

### PREGUNTA 17

Para determinar el tiempo necesario para que 0.5 g de magnesio reaccionen completamente con una solución de ácido clorhídrico de  $0.2 \frac{\text{mol}}{\text{L}}$  a  $25^\circ\text{C}$ , podemos analizar la información proporcionada en la tabla y buscar un patrón o tendencia que nos permita hacer una inferencia razonable.

La tabla muestra dos variables que afectan el tiempo de reacción: la concentración de la solución de ácido clorhídrico y la temperatura. Observamos que:

1. Al aumentar la concentración de la solución de ácido clorhídrico de  $0.1 \frac{\text{mol}}{\text{L}}$  a  $0.2 \frac{\text{mol}}{\text{L}}$ , el tiempo de reacción disminuye significativamente a la misma temperatura. Por ejemplo, a  $20^\circ\text{C}$ , el tiempo de reacción disminuye de 80 s a 20 s al duplicar la concentración.

2. Al aumentar la temperatura, el tiempo de reacción también disminuye. Por ejemplo, para una concentración de  $0.1 \frac{\text{mol}}{\text{L}}$ , el tiempo de reacción disminuye de 80 s a 60 s al aumentar la temperatura de  $20^\circ\text{C}$  a  $25^\circ\text{C}$ .

Para la concentración de  $0.2 \frac{\text{mol}}{\text{L}}$ , no tenemos un dato directo para  $25^\circ\text{C}$ , pero podemos inferir que el tiempo de reacción a  $25^\circ\text{C}$  será menor que a  $30^\circ\text{C}$ , ya que a mayor temperatura, las reacciones suelen ocurrir más rápidamente. Sin embargo, el efecto de la temperatura no parece ser tan drástico como el de la concentración, ya que el tiempo de reacción se reduce a la mitad al aumentar la temperatura en  $10^\circ\text{C}$  (de 20 s a 10 s al pasar de  $30^\circ\text{C}$  a  $40^\circ\text{C}$ ).

Dado que 20 s es el tiempo de reacción a  $30^\circ\text{C}$  y  $0.2 \frac{\text{mol}}{\text{L}}$ , y sabemos que a  $25^\circ\text{C}$  la reacción será más lenta que a  $30^\circ\text{C}$ , pero más rápida que a  $20^\circ\text{C}$  con la misma concentración, podemos inferir que el tiempo de reacción estará entre 20 s y 60 s.

Por lo tanto, la inferencia correcta es:

C) La reacción tardará entre 20 s y 60 s en ocurrir.

### PREGUNTA 18

Para calcular la concentración molar de etanol en la bebida, primero necesitamos saber la cantidad de etanol en gramos que hay en la botella. La concentración dada es del 2,3% m/v, lo que significa que hay 2,3 gramos de etanol por cada 100 mililitros de solución. Como la botella contiene 1000 mililitros, podemos calcular la cantidad de etanol en gramos de la siguiente manera:

$$\text{Cantidad de etanol en gramos} = \frac{2,3 \text{ gramos}}{100 \text{ mL}} \times 1000 \text{ mL}$$

$$\text{Cantidad de etanol en gramos} = 23 \text{ gramos}$$

Ahora, para convertir la cantidad de etanol en gramos a moles, usamos la masa molar del etanol, que es  $46 \frac{\text{g}}{\text{mol}}$ :

$$\text{Cantidad de etanol en moles} = \frac{\text{Cantidad de etanol en gramos}}{\text{Masa molar del etanol}}$$

$$\text{Cantidad de etanol en moles} = \frac{23 \text{ gramos}}{46 \frac{\text{g}}{\text{mol}}}$$

$$\text{Cantidad de etanol en moles} = 0,5 \text{ moles}$$

Finalmente, para obtener la concentración molar, dividimos la cantidad de etanol en moles por el volumen de la solución en litros. Como 1000 mililitros es igual a 1 litro, la concentración molar es:

$$\text{Concentración molar} = \frac{0,5 \text{ moles}}{1 \text{ L}}$$

$$\text{Concentración molar} = 0,5 \frac{\text{mol}}{\text{L}}$$

Por lo tanto, la respuesta correcta es:

B)  $0,500 \frac{\text{mol}}{\text{L}}$

### PREGUNTA 19

Para que un actor vea su imagen derecha y de mayor tamaño, necesita un espejo que produzca una imagen virtual, erecta y ampliada. Este tipo de imagen se obtiene con un espejo cóncavo cuando el objeto se encuentra entre el foco (F) y el espejo.

Un espejo convexo siempre produce imágenes virtuales, reducidas y derechas, independientemente de la posición del objeto. Por lo tanto, no es adecuado para el propósito del actor.

Un espejo plano produce una imagen virtual del mismo tamaño que el objeto y derecha, pero no ampliada.

Por lo tanto, el actor debe usar un espejo cóncavo y ubicarse entre el foco y el espejo para ver su imagen derecha y de mayor tamaño. La respuesta correcta es:

D) Espejo cóncavo, ubicándose entre el espejo y el foco del espejo.

## PREGUNTA 20

Claro, para resolver esta pregunta, debemos considerar las leyes de la refracción de la luz, también conocidas como las leyes de Snell. Cuando un rayo de luz pasa de un medio a otro con diferente índice de refracción, su velocidad cambia y, como resultado, el rayo se dobla o refracta.

Las leyes de Snell se pueden expresar de la siguiente manera:

$$n_1 \sin(\theta_1) = n_2 \sin(\theta_2)$$

donde:

- $n_1$  es el índice de refracción del primer medio (aire en este caso).
- $\theta_1$  es el ángulo de incidencia, que es el ángulo entre el rayo incidente y la normal a la superficie en el punto de incidencia.
- $n_2$  es el índice de refracción del segundo medio (agua en este caso).
- $\theta_2$  es el ángulo de refracción, que es el ángulo entre el rayo refractado y la normal a la superficie en el punto de incidencia.

El índice de refracción del aire es aproximadamente 1, mientras que el del agua es mayor (aproximadamente 1.33). Esto significa que cuando la luz pasa del aire al agua, su velocidad disminuye y el rayo se dobla hacia la normal.

Dado que el ángulo de incidencia es de  $60^\circ$ , y sabiendo que el índice de refracción del agua es mayor que el del aire, podemos determinar que el ángulo de refracción será menor que el ángulo de incidencia. Por lo tanto, el rayo de luz se doblará hacia la normal al pasar del aire al agua.

Ahora, revisemos las opciones dadas y busquemos la que muestra un rayo de luz que se dobla hacia la normal al entrar en el agua:

- Opción A) Muestra un rayo de luz que se refleja en la superficie, lo cual no es lo que estamos buscando.
- Opción B) Muestra un rayo de luz que se refracta, pero se aleja de la normal, lo cual es incorrecto.
- Opción C) Muestra un rayo de luz que se refracta y se dobla hacia la normal, lo cual es consistente con lo que esperaríamos.
- Opción D) Muestra un rayo de luz que se refracta y se dobla hacia la normal, pero el ángulo de refracción parece ser mayor que el ángulo de incidencia, lo cual es incorrecto.
- Opción E) Muestra un rayo de luz que se refracta y se dobla hacia la normal, pero el ángulo de refracción parece ser igual al ángulo de incidencia, lo cual también es incorrecto.

La opción correcta es la que muestra el rayo de luz doblándose hacia la normal al entrar en el agua con un ángulo de refracción menor que el ángulo de incidencia. Por lo tanto, la opción correcta es la C).

## PREGUNTA 21

El experimento descrito es similar al famoso experimento de la doble rendija realizado por Thomas Young, que demostró la naturaleza ondulatoria de la luz. En este experimento, una fuente de luz emite hacia una pantalla y en el medio hay una barrera con dos ranuras. Cuando la luz pasa a través de las ranuras, se crea un patrón de interferencia en la pantalla debido a la superposición de las ondas de luz que pasan a través de las dos ranuras.

Dado que la fuente luminosa y la pantalla permanecen fijas y la única variable que cambia es el tamaño de las ranuras en las barreras, podemos descartar las opciones A, B y D. La opción A se refiere a la distancia de las barreras, la opción B a la posición de la fuente luminosa y la opción D a las características de la pantalla. Ninguna de estas variables está siendo alterada en el experimento.

La opción C menciona el tamaño de las ranuras en las barreras, que es precisamente lo que los estudiantes están cambiando en su experimento. Por lo tanto, la hipótesis que más probablemente guió el experimento es que las variaciones en el patrón de interferencia dependen del tamaño de las ranuras en las barreras.

Por lo tanto, la respuesta correcta es:

C) Las variaciones en el patrón de interferencia dependen del tamaño de las ranuras en las barreras.

## **PREGUNTA 22**

El procedimiento descrito implica hacer incidir un haz de luz láser sobre una superficie de agua y medir el ángulo de refracción. Luego, se agrega colorante al agua y se mide nuevamente el ángulo de refracción. Este proceso se repite varias veces, aumentando la cantidad de colorante cada vez.

La opción A) “Determinar la relación entre el ángulo de incidencia y el ángulo de refracción en el medio” no parece ser el objetivo principal de este experimento, ya que el ángulo de incidencia no se menciona como una variable que se esté cambiando o midiendo en relación con el colorante.

La opción B) “Determinar la relación entre el ángulo de incidencia y la cantidad de gotas de colorante” tampoco parece ser el objetivo, ya que, de nuevo, el ángulo de incidencia no se está variando o midiendo en relación con la cantidad de colorante.

La opción C) “Determinar la relación entre el ángulo de refracción y la cantidad de gotas de colorante” podría ser un objetivo plausible, ya que se está midiendo cómo cambia el ángulo de refracción a medida que se añade más colorante al agua. Sin embargo, esta opción no toma en cuenta cómo el colorante podría afectar el índice de refracción del agua, que es un factor clave en la refracción de la luz.

La opción D) “Determinar la relación entre el ángulo de refracción y el índice de refracción de un medio” parece ser la más pertinente, ya que al agregar colorante al agua, se está cambiando el índice de refracción del medio (el agua con colorante). La medición del ángulo de refracción después de cada adición de colorante podría revelar cómo el índice de refracción del agua cambia con la concentración del colorante, lo cual es un objetivo de investigación relevante en el contexto de la óptica y la física de la luz.

Por lo tanto, la respuesta correcta es la opción D) “Determinar la relación entre el ángulo de refracción y el índice de refracción de un medio”.

## **PREGUNTA 23**

Para responder a esta pregunta, primero debemos entender qué es cada una de las opciones presentadas:

A) Una ley es una declaración basada en observaciones repetidas que describe algún aspecto del mundo. Las leyes predicen los resultados de ciertos eventos iniciales.

B) Un modelo es una representación simplificada de la realidad que se utiliza para explicar o predecir fenómenos. Los modelos pueden ser físicos, matemáticos, o conceptuales y son herramientas fundamentales en la ciencia para comprender y explicar lo que observamos.

C) Un diseño experimental es el plan o estrategia que se sigue para llevar a cabo una investigación experimental. Incluye la elección de variables, la forma de manipularlas y la manera de controlar los factores que podrían influir en los resultados del experimento.

D) Un problema de investigación es una pregunta o una serie de preguntas que se plantean para ser respondidas mediante un proceso de investigación científica.

Dado que estamos hablando de un enfoque que describe la luz como una onda y utiliza este concepto para explicar su comportamiento, estamos hablando de una representación simplificada de la realidad que se utiliza para entender y predecir fenómenos. Por lo tanto, la respuesta correcta es:

B) A un modelo

## PREGUNTA 24

La radiación infrarroja y la ultravioleta son ambas formas de radiación electromagnética, lo que significa que son ondas electromagnéticas que se propagan a través del espacio. La principal diferencia entre ellas es su frecuencia y longitud de onda. La frecuencia es el número de ondas que pasan por un punto dado en un segundo, y la longitud de onda es la distancia entre dos crestas consecutivas de una onda.

- A) Esta opción es incorrecta porque, aunque ambas poseen distinta frecuencia, también tienen diferente longitud de onda. La radiación infrarroja tiene una longitud de onda más larga y una frecuencia más baja que la ultravioleta.
- B) Esta opción es incorrecta porque la visibilidad al ojo humano no determina si dos tipos de radiación tienen la misma frecuencia. La radiación infrarroja y la ultravioleta tienen diferentes frecuencias, independientemente de si podemos verlas o no.
- C) Esta opción es incorrecta porque tanto la radiación infrarroja como la ultravioleta son ondas electromagnéticas, no ondas mecánicas. Las ondas mecánicas requieren un medio para propagarse, mientras que las ondas electromagnéticas no.
- D) Esta opción es correcta. Ambas son ondas electromagnéticas y, por lo tanto, se mueven con la misma rapidez en el vacío, que es la velocidad de la luz, aproximadamente  $3 \times 10^8$  metros por segundo.
- E) Esta opción es incorrecta porque los fotones asociados a cada tipo de radiación electromagnética tienen diferentes energías. La energía de un fotón está relacionada con su frecuencia; a mayor frecuencia, mayor energía. Por lo tanto, los fotones de la radiación ultravioleta tienen más energía que los de la radiación infrarroja.

La respuesta correcta es:

- D) ambas son ondas electromagnéticas, y se mueven con la misma rapidez en el vacío.

## PREGUNTA 25

La fuerza elástica  $F$  que ejerce un resorte ideal se puede determinar mediante la Ley de Hooke, que establece que la fuerza es directamente proporcional al estiramiento o compresión del resorte desde su longitud natural. Matemáticamente, la Ley de Hooke se expresa como:

$$F = -k \cdot x$$

donde: -  $F$  es la fuerza elástica,  
-  $k$  es la constante elástica del resorte (también conocida como constante de resorte),  
-  $x$  es el estiramiento o compresión del resorte desde su longitud natural (la distancia que el resorte se ha estirado o comprimido desde su posición de equilibrio).

La opción correcta es aquella que relaciona la constante elástica del resorte  $k$  con el estiramiento  $x$ . Por lo tanto, la respuesta correcta es:

- B) la constante elástica del resorte y el estiramiento de este.

## PREGUNTA 26

Para entender qué fuerza es la principal causante de que la caja se mueva con la misma rapidez que la cinta transportadora, primero debemos considerar las fuerzas que actúan sobre la caja mientras está en la cinta.

La caja está en contacto con la cinta transportadora, y debido a este contacto, hay una fuerza de fricción entre la caja y la cinta. Esta fricción puede ser de dos tipos: estática o cinética. La fricción estática es la que actúa sobre un objeto en reposo, evitando que comience a moverse, mientras que la fricción cinética es la que actúa sobre un objeto en movimiento, resistiendo su desplazamiento.

En este caso, dado que la caja se mueve con la misma rapidez que la cinta transportadora, la fuerza de fricción que actúa es la estática. Esta fuerza de roce estático es la que permite que la caja "agarre" la cinta y se mueva junto con ella sin deslizarse. Por lo tanto, la fuerza de roce estático es la que hace que la caja acelere hasta alcanzar la misma velocidad de la cinta y luego mantenga esa velocidad constante.

Las otras fuerzas mencionadas tienen diferentes efectos:

- La fuerza de tensión generalmente se refiere a la fuerza que se aplica a un cable o cuerda cuando está siendo estirada. En este escenario, no hay ninguna cuerda o cable tirando de la caja, por lo que la fuerza de tensión no es relevante.
- La fuerza elástica se refiere a la fuerza que se ejerce cuando un objeto elástico, como un resorte, se estira o comprime. No hay mención de un objeto elástico actuando sobre la caja, por lo que esta fuerza tampoco es aplicable.
- La fuerza normal es la fuerza perpendicular a la superficie de contacto que actúa sobre la caja. Mientras que la fuerza normal es importante porque equilibra el peso de la caja y permite que la fuerza de fricción estática actúe, por sí misma no es la causante del movimiento de la caja a lo largo de la cinta.

Por lo tanto, la respuesta correcta es:

- A) La fuerza de roce estático

### PREGUNTA 27

El experimento original de Galileo tenía como objetivo demostrar que el tiempo de caída de dos cuerpos de diferente masa es el mismo cuando se dejan caer desde la misma altura, en ausencia de resistencia del aire. Sin embargo, en la época de Galileo, no se podían controlar todas las variables que podrían afectar el resultado del experimento, como la resistencia del aire.

- A) Comparar instrumentos de medida con diferente exactitud para medir el tiempo de caída de cuerpos. Esta opción no parece ser el propósito principal de realizar el experimento en diferentes contextos, ya que el enfoque está en la caída de los cuerpos, no en los instrumentos de medida.
- B) Controlar variables que influyen en el tiempo de caída de cuerpos y que Galileo no pudo manipular. Esta opción tiene sentido, ya que al realizar el experimento en la Luna o en una cámara de vacío, se eliminan factores como la resistencia del aire, permitiendo una comparación más precisa del tiempo de caída de cuerpos de diferente masa.
- C) Cambiar la forma en que se dejan caer los cuerpos, para garantizar que se suelten simultáneamente. Aunque es importante que los cuerpos se suelten al mismo tiempo para un experimento justo, este no parece ser el propósito principal de realizar el experimento en diferentes contextos.
- D) Disponer de lugares de mayor altura para dejar caer los cuerpos y así medir con más precisión el tiempo de caída. Aunque una mayor altura podría permitir una medición más precisa del tiempo de caída, no es necesario para probar la afirmación de Galileo, y no se menciona que este haya sido el propósito de realizar el experimento en la Luna o en una cámara de vacío.

Por lo tanto, la opción más razonable parece ser la B) Controlar variables que influyen en el tiempo de caída de cuerpos y que Galileo no pudo manipular.

### PREGUNTA 28

Para que la gota de agua se mueva con velocidad constante, de acuerdo con la primera ley de Newton o ley de la inercia, la fuerza neta que actúa sobre la gota debe ser cero. Esto significa que todas las fuerzas que actúan sobre la gota deben estar equilibradas.

En este caso, tenemos dos fuerzas principales actuando sobre la gota: su peso  $\vec{P}$ , que actúa hacia abajo debido a la gravedad, y la fuerza de roce  $\vec{F}_R$ , que actúa en dirección opuesta al movimiento de la gota, es decir, hacia arriba.

Para que la gota se mueva con velocidad constante, la fuerza de roce  $\vec{F}_R$  debe ser igual en magnitud y opuesta en dirección al peso  $\vec{P}$ . Matemáticamente, esto se puede expresar como:

$$\vec{F}_R + \vec{P} = \vec{0}$$

Esto implica que la fuerza neta es cero:

$$\vec{F}_{\text{neta}} = \vec{P} + (-\vec{F}_R) = \vec{0}$$

Por lo tanto, la respuesta correcta es:



A) Debe ser nula.

### PREGUNTA 29

Para encontrar la magnitud de la aceleración que adquiere el bloque, primero debemos calcular la fuerza neta que actúa sobre él. La fuerza neta es la suma vectorial de todas las fuerzas que actúan sobre el objeto. En este caso, tenemos dos fuerzas en direcciones opuestas: una fuerza de 15 N hacia la derecha y una fuerza de 5 N hacia la izquierda. La fuerza neta será la diferencia entre estas dos fuerzas:

$$\begin{aligned}F_{\text{neto}} &= F_{\text{derecha}} - F_{\text{izquierda}} \\F_{\text{neto}} &= 15 \text{ N} - 5 \text{ N} \\F_{\text{neto}} &= 10 \text{ N}\end{aligned}$$

Ahora que tenemos la fuerza neta, podemos usar la segunda ley de Newton para encontrar la aceleración. La segunda ley de Newton establece que la fuerza neta que actúa sobre un objeto es igual a la masa del objeto multiplicada por su aceleración ( $F = m \cdot a$ ). Podemos reorganizar esta ecuación para resolver la aceleración ( $a$ ):

$$a = \frac{F}{m}$$

Sustituimos los valores que conocemos en la ecuación:

$$\begin{aligned}a &= \frac{10 \text{ N}}{10 \text{ kg}} \\a &= 1 \frac{\text{m}}{\text{s}^2}\end{aligned}$$

Por lo tanto, la magnitud de la aceleración que adquiere el bloque es  $1 \frac{\text{m}}{\text{s}^2}$ .

La respuesta correcta es la opción A)  $1 \frac{\text{m}}{\text{s}^2}$ .

### PREGUNTA 30

Para resolver este problema, primero debemos calcular la cantidad de energía que absorbió la masa de agua de 300 g cuando su temperatura aumentó de  $30^\circ\text{C}$  a  $80^\circ\text{C}$ . La fórmula para calcular la energía ( $Q$ ) absorbida o liberada durante un cambio de temperatura es:

$$Q = m \cdot c \cdot \Delta T$$

donde  $m$  es la masa del agua,  $c$  es el calor específico del agua (que es aproximadamente  $4.18 \text{ J/g}^\circ\text{C}$ ), y  $\Delta T$  es el cambio de temperatura.

Para la masa de agua de 300 g, el cambio de temperatura  $\Delta T$  es  $80^\circ\text{C} - 30^\circ\text{C} = 50^\circ\text{C}$ . Entonces, la energía absorbida por esta masa de agua es:

$$Q = 300 \text{ g} \cdot 4.18 \text{ J/g}^\circ\text{C} \cdot 50^\circ\text{C}$$

Calculamos  $Q$ :

$$Q = 300 \text{ g} \cdot 4.18 \text{ J/g}^\circ\text{C} \cdot 50^\circ\text{C} = 62700 \text{ J}$$

Ahora, esta energía (62700 J) es entregada a la masa de agua de 600 g que está a  $20^\circ\text{C}$ . Suponiendo que no hay pérdida de energía en el proceso, la energía absorbida por la segunda masa de agua será igual a la energía entregada por la primera masa de agua. Usamos la misma fórmula para calcular el cambio de temperatura de la segunda masa de agua:

$$62700 \text{ J} = 600 \text{ g} \cdot 4.18 \text{ J/g}^\circ\text{C} \cdot \Delta T$$

Despejamos  $\Delta T$ :

$$\Delta T = \frac{62700 \text{ J}}{600 \text{ g} \cdot 4.18 \text{ J/g}^\circ\text{C}}$$

Calculamos  $\Delta T$ :

$$\Delta T = \frac{62700 \text{ J}}{2508 \text{ J/g}^\circ\text{C}} = 25^\circ\text{C}$$

La temperatura final de la segunda masa de agua será la temperatura inicial más el cambio de temperatura:

$$T_{\text{final}} = 20^\circ\text{C} + 25^\circ\text{C} = 45^\circ\text{C}$$

Por lo tanto, la respuesta correcta es:

C)  $45^\circ\text{C}$

### PREGUNTA 31

Para comprobar que el cambio de longitud  $\Delta L$  de un sólido es directamente proporcional al cambio de temperatura  $\Delta T$  y a la longitud inicial de referencia  $L_0$ , necesitamos asegurarnos de que el experimento controla y mide adecuadamente estas variables.

En el experimento propuesto, se toman cinco varillas de la misma longitud inicial y se someten a un cambio de temperatura uniforme de  $20^\circ\text{C}$ . Esto significa que la longitud inicial  $L_0$  y el cambio de temperatura  $\Delta T$  son constantes para todas las varillas, lo cual es adecuado para probar la relación entre  $\Delta L$ ,  $\Delta T$  y  $L_0$ .

La variable independiente en este caso sería el material de la varilla, ya que es lo que se está variando para observar cómo afecta al cambio de longitud  $\Delta L$ . Dado que cada varilla es de un material diferente, se puede comparar cómo cada material se expande con el cambio de temperatura.

Por lo tanto, el experimento parece estar diseñado correctamente para medir el cambio de longitud en función del cambio de temperatura y la longitud inicial, siempre y cuando se mida con precisión el  $\Delta L$  de cada varilla después del aumento de temperatura.

La opción A) es correcta porque se mide  $\Delta L$  para varias barras, lo cual es necesario para comprobar la proporcionalidad con  $\Delta T$  y  $L_0$ .

La opción B) es incorrecta porque la variable independiente (el material de la varilla) está bien elegida para el propósito del experimento.

La opción C) es correcta porque todas las varillas tienen la misma longitud inicial, lo cual es importante para asegurar que cualquier cambio en la longitud se debe al cambio de temperatura y no a diferencias en la longitud inicial.

La opción D) es incorrecta porque no hay información en la pregunta que indique que el  $\Delta T$  de  $20^\circ\text{C}$  es insuficiente para detectar cambios de longitud. En general, un cambio de  $20^\circ\text{C}$  debería ser suficiente para observar una expansión térmica en la mayoría de los materiales sólidos.

La opción E) es incorrecta porque no hay una regla que determine el número exacto de varillas de materiales diferentes necesarias para realizar el experimento. Cinco varillas de materiales diferentes pueden ser suficientes para observar una tendencia y comprobar la proporcionalidad.

En conclusión, la respuesta correcta es la opción A) correcto, porque se mide  $\Delta L$  para varias barras.

### PREGUNTA 32

La información proporcionada indica que el país en cuestión tiene una alta actividad sísmica, una gran cantidad de volcanes y se encuentra cerca del límite de dos placas tectónicas que convergen, con una placa hundiéndose debajo de la otra. Esto último es un proceso conocido como subducción.

La opción A) sugiere que la alta actividad sísmica es causada por la presencia de muchos volcanes. Aunque los volcanes pueden estar asociados con la actividad sísmica, la presencia de volcanes por sí sola no es una causa directa de terremotos.

La opción B) menciona un deslizamiento paralelo de una placa sobre la otra. Esto se refiere a un límite transformante, donde las placas se deslizan lateralmente una respecto a la otra, lo cual no es el caso descrito en la información proporcionada.

La opción C) habla de una separación de las placas tectónicas. Esto se refiere a un límite divergente, donde las placas se alejan una de la otra, lo cual tampoco coincide con la descripción de convergencia de placas dada.

La opción D) menciona los efectos de la subducción de las placas como causa de la alta actividad sísmica. Esto es consistente con la descripción de que una placa se hunde debajo de la otra en un límite convergente, lo cual puede generar terremotos y está asociado con la formación de volcanes.

Por lo tanto, la inferencia más pertinente basada en la información presentada es la opción D) La alta actividad sísmica en el país ocurre por los efectos de la subducción de las placas.

### **PREGUNTA 33**

Para determinar si el calor específico del agua cambia al disolver café instantáneo en ella, necesitamos comparar la cantidad de energía requerida para cambiar la temperatura de una cantidad dada de agua pura con la cantidad de energía requerida para cambiar la temperatura de la misma cantidad de agua con café disuelto. El calor específico es la cantidad de calor necesaria para elevar la temperatura de un gramo de una sustancia en un grado Celsius.

La opción A) no es adecuada porque medir el tiempo que tarda en volver a la temperatura original no nos da información directa sobre el calor específico. Además, factores como la pérdida de calor al ambiente pueden afectar el tiempo de enfriamiento.

La opción B) tampoco es adecuada porque la evaporación no está directamente relacionada con el calor específico. La evaporación es un proceso que depende de la energía para cambiar de estado líquido a gaseoso, pero no nos dice cuánta energía se necesita para cambiar la temperatura.

La opción C) tampoco es adecuada porque el punto de ebullición no está directamente relacionado con el calor específico. El punto de ebullición es la temperatura a la cual una sustancia cambia de estado líquido a gaseoso, pero no nos dice cuánta energía se necesita para cambiar la temperatura antes de alcanzar ese punto.

La opción D) es la más adecuada porque al calentar iguales cantidades de agua y agua con café instantáneo disuelto a una tasa constante durante el mismo tiempo, podemos medir el aumento de temperatura en cada caso. Si el calor específico del agua con café es diferente al del agua pura, entonces para la misma cantidad de energía aplicada, veremos un cambio de temperatura diferente en cada caso. Esto nos permitirá comparar directamente el calor específico del agua pura con el del agua con café disuelto.

Por lo tanto, la respuesta correcta es:

D) Poner a calentar a una tasa constante, durante un mismo tiempo, iguales cantidades de agua y agua con café instantáneo disuelto, y luego medir el aumento de temperatura en cada caso.

### **PREGUNTA 34**

Para determinar cómo la intensidad de la corriente eléctrica depende del voltaje, necesitamos variar el voltaje y medir la intensidad de la corriente resultante. La ley de Ohm nos dice que la intensidad de la corriente ( $I$ ) que fluye a través de una resistencia ( $R$ ) es directamente proporcional al voltaje ( $V$ ) aplicado a través de la resistencia, según la fórmula:

$$I = \frac{V}{R}$$

Dado que queremos entender cómo  $I$  cambia con  $V$ , necesitamos mantener  $R$  constante y variar  $V$ . Así, podemos observar cómo cambia  $I$  en respuesta a los cambios en  $V$ .

Ahora, revisemos las opciones:

A) Medir la intensidad de corriente eléctrica de distintas resistencias sometidas a igual voltaje no nos permitiría determinar la relación entre  $I$  y  $V$  porque estaríamos cambiando  $R$  al mismo tiempo que medimos  $I$ , lo que no mantiene constante la variable  $R$ .

B) Medir el voltaje de una misma resistencia con distintas intensidades de corriente eléctrica es al revés de lo que queremos hacer; queremos medir cómo  $I$  cambia con  $V$ , no cómo  $V$  cambia con  $I$ .

C) Medir la intensidad de corriente eléctrica de una misma resistencia sometida a distintos voltajes es el procedimiento correcto. Mantenemos  $R$  constante y variamos  $V$ , lo que nos permite observar cómo cambia  $I$  en respuesta a los cambios en  $V$ .

D) Medir el voltaje de distintas resistencias con una misma intensidad de corriente eléctrica tampoco nos ayudaría a determinar la relación entre  $I$  y  $V$  porque estaríamos cambiando  $R$  mientras intentamos mantener  $I$  constante.

Por lo tanto, la opción correcta es la C) Medir la intensidad de corriente eléctrica de una misma resistencia sometida a distintos voltajes.

### PREGUNTA 35

Para determinar la causa más probable de los incendios, debemos considerar cómo se generan las cargas eléctricas y cómo estas podrían causar una chispa que encienda el vapor de la gasolina.

A) Esta opción sugiere que las personas se cargan al tocar la pistola de combustible y luego se descargan al entrar al vehículo. Sin embargo, esto no explica cómo se generaría la carga eléctrica en primer lugar, ya que simplemente tocar la pistola no debería cargar a una persona.

B) Esta opción indica que la carga estática se produce por la fricción con el aire mientras las personas se mueven. Aunque el movimiento puede generar cierta carga estática, es poco probable que la fricción con el aire sea la principal causa de una carga suficiente para provocar un incendio.

C) Esta opción sugiere que las personas adquieren carga estática por contacto al entrar y salir del vehículo. Aunque el contacto puede generar carga estática, esta opción no especifica cómo el contacto con el vehículo en sí mismo causaría una carga suficiente para provocar una chispa.

D) Esta opción propone que al entrar y salir del vehículo, las personas friccionan sus ropas con el tapiz de los asientos, lo que genera carga estática. Esta es una explicación plausible, ya que la fricción entre diferentes materiales (como la ropa y el tapiz del asiento) es una forma común de generar carga estática. Además, al tocar la pistola de combustible después de haberse cargado eléctricamente, podría ocurrir una descarga que encienda el vapor de la gasolina.

Por lo tanto, la opción D parece ser la causa más probable de los incendios, ya que explica cómo se genera la carga estática y cómo esta podría causar una chispa en el punto de carga de combustible.

### PREGUNTA 36

En un hogar, los electrodomésticos como un televisor, una estufa y una ampolleta suelen estar conectados de tal manera que cada uno de ellos puede funcionar de forma independiente. Esto significa que si uno de ellos se apaga o se desconecta, los otros pueden seguir funcionando sin interrupción. Esta característica es típica de un circuito en paralelo, donde cada dispositivo está conectado a través de su propio camino al voltaje de la fuente.

Por lo tanto, podemos descartar la opción A) Un circuito en serie con resistencias distintas, ya que en un circuito en serie, si un dispositivo se apaga o se desconecta, el circuito se interrumpe y los otros dispositivos también dejan de funcionar.

La opción B) Un circuito en paralelo con tres resistencias idénticas tampoco es correcta, ya que es poco probable que un televisor, una estufa y una ampolleta tengan resistencias idénticas debido a sus diferentes funciones y requerimientos de potencia.

La opción D) Un circuito simple, con una resistencia equivalente a la de los tres artefactos tampoco es adecuada, ya que no refleja la independencia de los dispositivos en un circuito hogareño.

Por lo tanto, la opción C) Un circuito en paralelo con tres resistencias de distinto valor es la que mejor describe el análogo del circuito hogareño en el cual están enchufados un televisor, una estufa y una ampolleta. Cada dispositivo tiene su propia resistencia, que es diferente de los demás, y están conectados en paralelo para que puedan operar de manera independiente.

### PREGUNTA 37

A) Los tres organelos presentan compartimientos membranosos en su interior. Esto es cierto para las mitocondrias y los cloroplastos, que tienen membranas internas que forman crestas y tilacoides, respectivamente. El núcleo también está rodeado por una membrana, la envoltura nuclear, que contiene poros nucleares, pero no se organiza en compartimientos internos como en las mitocondrias y cloroplastos.

B) Los tres organelos presentan estructuras con una monocapa de fosfolípidos. Esto no es correcto, ya que tanto las mitocondrias como los cloroplastos y el núcleo están rodeados por membranas bicapa de fosfolípidos, no monocapa.

C) Los tres organelos presentan material genético. Esto es correcto. Las mitocondrias tienen su propio ADN mitocondrial, los cloroplastos tienen ADN cloroplástico y el núcleo contiene la mayor parte del material genético de la célula en forma de cromosomas.

D) Los tres organelos presentan cadena de transporte de electrones. Esto no es correcto. Mientras que las mitocondrias y los cloroplastos tienen cadenas de transporte de electrones como parte de la respiración celular y la fotosíntesis, respectivamente, el núcleo no participa en el transporte de electrones.

Por lo tanto, la respuesta correcta es:

C) Los tres organelos presentan material genético.

### PREGUNTA 38

Analicemos las opciones una por una en relación con el gráfico proporcionado:

A) La velocidad de la difusión simple disminuye a medida que la concentración de soluto se incrementa.

- Esta afirmación es incorrecta. Según el gráfico, la línea de difusión simple (línea discontinua) muestra un aumento constante en la velocidad de difusión a medida que aumenta el gradiente de concentración. No hay una disminución en la velocidad de difusión simple con el aumento de la concentración.

B) La velocidad de la difusión simple exhibe un comportamiento inversamente proporcional a la concentración del soluto.

- Esta afirmación también es incorrecta. Un comportamiento inversamente proporcional implicaría que a medida que aumenta la concentración del soluto, la velocidad de difusión disminuiría, lo cual no es lo que muestra el gráfico.

C) La velocidad de la difusión mediada por un transportador alcanza un máximo sugiriendo que el transportador es saturable.

- Esta afirmación parece ser correcta. En el gráfico, la línea de difusión mediada por transportador (línea continua) aumenta con el gradiente de concentración hasta cierto punto, después del cual se nivela, lo que indica que la velocidad de difusión no aumenta a pesar de un mayor gradiente de concentración. Esto es característico de un proceso saturable, donde los transportadores tienen una capacidad máxima y, una vez alcanzada, no pueden aumentar la velocidad de transporte a pesar de aumentos adicionales en la concentración del soluto.

D) La velocidad de la difusión mediada por un transportador es directamente proporcional al gradiente de concentración del soluto en todo el rango medido.

- Esta afirmación es incorrecta. Si bien la velocidad de difusión mediada por transportador aumenta con el gradiente de concentración al principio, no es directamente proporcional en todo el rango, ya que se nivela y no sigue aumentando después de alcanzar la saturación.

Por lo tanto, la opción correcta, basada en el gráfico, es:

C) La velocidad de la difusión mediada por un transportador alcanza un máximo sugiriendo que el transportador es saturable.

### PREGUNTA 39

Vamos a analizar las opciones paso a paso.

Según la descripción del experimento, la velocidad de transporte de la molécula a través de la membrana plasmática aumenta proporcionalmente con la concentración de la molécula hasta alcanzar una velocidad máxima. Una vez que se alcanza esta velocidad máxima, la velocidad de transporte se vuelve independiente de la concentración de la molécula. Esto sugiere que el transporte de la molécula sigue una cinética de saturación, similar a la cinética enzimática descrita por la ecuación de Michaelis-Menten.

La velocidad máxima mencionada es de 25 unidades arbitrarias (u.a.). Por lo tanto, estamos buscando una tabla en la que la velocidad de transporte aumente con la concentración hasta llegar a 25 u.a., y luego se mantenga constante a pesar de que la concentración de la molécula siga aumentando.

Vamos a revisar cada opción:

Opción A: La velocidad de transporte sigue aumentando incluso después de alcanzar las 25 u.a., lo cual no es consistente con la descripción del experimento.

Opción B: La velocidad de transporte aumenta con la concentración hasta llegar a 25 u.a., y luego se mantiene constante en 25 u.a. a pesar de un aumento en la concentración de la molécula. Esto es consistente con la descripción del experimento.

Opción C: La velocidad de transporte aumenta hasta 15 u.a. y luego se mantiene constante, lo cual no coincide con la velocidad máxima de 25 u.a. mencionada en el experimento.

Opción D: La velocidad de transporte aumenta hasta 25 u.a. y luego se mantiene constante en 25 u.a., pero la concentración de la molécula no aumenta después de alcanzar la velocidad máxima, lo cual no permite verificar si la velocidad se mantiene constante más allá de ese punto.

La opción que mejor se ajusta a la descripción del experimento es la opción B, ya que muestra un aumento proporcional de la velocidad de transporte con la concentración de la molécula hasta alcanzar la velocidad máxima de 25 u.a., y luego muestra que la velocidad se mantiene constante a pesar de un aumento adicional en la concentración de la molécula.

#### **PREGUNTA 40**

En un experimento, la variable dependiente es aquella que se mide o se observa en respuesta a la manipulación de otra variable, conocida como la variable independiente. La variable independiente es la que el investigador cambia o controla para observar su efecto en la variable dependiente.

En el gráfico proporcionado, se muestra la relación entre la concentración del ion sodio ( $Na^+$ ) extracelular y la tasa relativa de transporte de un aminoácido y un azúcar. Aquí, la concentración de  $Na^+$  es la variable que se cambia o controla, lo que la convierte en la variable independiente. La tasa relativa de transporte es la variable que se mide en respuesta a los cambios en la concentración de  $Na^+$ , lo que la hace la variable dependiente.

Por lo tanto, la respuesta correcta es:

C) La tasa relativa de transporte

#### **PREGUNTA 41**

Para analizar el gráfico y llegar a una conclusión correcta, observemos los efectos de la adición de cada sustancia en el consumo de  $O_2$  y la síntesis de ATP:

1. La adición de la sustancia 1 muestra un descenso inmediato en el consumo de  $O_2$ , pero no hay un cambio apreciable en la síntesis de ATP.
2. La adición de la sustancia 2 no muestra un cambio inmediato en el consumo de  $O_2$ , pero sí hay un aumento en la síntesis de ATP poco después de su adición.
3. La adición de la sustancia 3 muestra un descenso en el consumo de  $O_2$  y un cese en la síntesis de ATP.
4. La adición de la sustancia 4 no muestra un cambio inmediato en el consumo de  $O_2$ , pero sí hay un aumento en la síntesis de ATP poco después de su adición.

Ahora, evaluemos las opciones dadas:

- A) La adición de la sustancia 4 provoca un aumento de la síntesis de ATP.  
- Esta afirmación es correcta según el gráfico, ya que después de la adición de la sustancia 4, la línea punteada que representa la síntesis de ATP aumenta.
- B) La adición de la sustancia 2 provoca un aumento de la síntesis de ATP.  
- Esta afirmación también es correcta según el gráfico, ya que después de la adición de la sustancia 2, la línea punteada que representa la síntesis de ATP aumenta.
- C) La adición de la sustancia 3 provoca una disminución del consumo de  $O_2$ .  
- Esta afirmación es correcta según el gráfico, ya que después de la adición de la sustancia 3, la línea sólida que representa el consumo de  $O_2$  disminuye.
- D) La adición de la sustancia 1 provoca una disminución del consumo de  $O_2$ .  
- Esta afirmación es correcta según el gráfico, ya que después de la adición de la sustancia 1, la línea sólida que representa el consumo de  $O_2$  disminuye.

Todas las opciones presentan afirmaciones que parecen ser correctas según el gráfico. Sin embargo, la pregunta específica que debemos elegir una conclusión correcta, y dado que no hay un efecto acumulativo ni interacciones entre las sustancias añadidas, debemos considerar la primera sustancia que muestra un efecto claro en el gráfico. En este caso, la opción D es la primera que muestra un efecto inmediato después de la adición de la sustancia, lo cual es una disminución en el consumo de  $O_2$ . Por lo tanto, la opción D parece ser la conclusión más inmediata y directa basada en la secuencia de eventos presentada en el gráfico.

## PREGUNTA 42

Para confirmar el efecto anticonceptivo de la vasectomía, necesitamos verificar que los espermatozoides ya no están presentes en el semen, ya que esto indicaría que no pueden fertilizar un óvulo.

- A) Establecer la reversibilidad de esta intervención quirúrgica no confirma el efecto anticonceptivo, ya que se refiere a la posibilidad de restaurar la fertilidad después de la vasectomía, no a la efectividad de la vasectomía en sí.
- B) Verificar la ausencia de eyaculación después de la vasectomía tampoco confirma el efecto anticonceptivo, ya que la eyaculación puede ocurrir sin espermatozoides, y la vasectomía no necesariamente detiene la eyaculación, solo impide que los espermatozoides se mezclen con el líquido seminal.
- C) Complementar el efecto de la vasectomía con un método anticonceptivo hormonal no es una confirmación del efecto anticonceptivo de la vasectomía, sino una medida adicional de precaución.
- D) Determinar que posvasectomía hay ausencia de espermatozoides en el semen sí confirmaría el efecto anticonceptivo de la vasectomía, ya que esto demostraría que los espermatozoides no pueden llegar al semen y, por lo tanto, no pueden fertilizar un óvulo.

Por lo tanto, la respuesta correcta es:

**D) Determinar que posvasectomía hay ausencia de espermatozoides en el semen.**

## PREGUNTA 43

Para responder a la pregunta, primero debemos analizar el gráfico y entender la información que presenta. El gráfico muestra el número de consultas por infecciones de transmisión sexual (ITS) en el sistema público de salud entre 1999 y 2003, separadas por sexo. Las ITS que se muestran son candidiasis, gonorrea, herpes y sífilis.

Ahora, revisemos cada una de las afirmaciones:

- A) Las ITS por hongos son más frecuentes en los hombres.  
- La candidiasis es una ITS causada por hongos. Según el gráfico, las consultas por candidiasis en hombres son significativamente menores que en mujeres. Por lo tanto, esta afirmación es incorrecta.
- B) En ambos sexos, las ITS bacterianas son las más consultadas.  
- Las ITS bacterianas presentadas en el gráfico son gonorrea y sífilis. Para los hombres, las consultas por gonorrea son mayores que las otras ITS mostradas, y para las mujeres, las consultas por sífilis son las más altas. Esta afirmación parece ser correcta, ya que en ambos sexos, una ITS bacteriana es la que tiene el mayor número de consultas.

C) En ambos sexos, la menor cantidad de consultas es por ITS virales.

- Las ITS virales presentadas en el gráfico son herpes y, en menor medida, la sífilis también puede ser considerada viral debido a su etiología compleja. Sin embargo, en el contexto de este gráfico, parece que el herpes es la ITS viral representada. Para los hombres, las consultas por herpes son menores que las otras ITS, pero para las mujeres, las consultas por herpes no son las menores, ya que la candidiasis tiene menos consultas. Por lo tanto, esta afirmación es incorrecta.

D) Las ITS presentan la misma prevalencia tanto en hombres como en mujeres.

- El gráfico muestra claramente que hay diferencias en el número de consultas por ITS entre hombres y mujeres, por lo que esta afirmación es incorrecta.

La afirmación correcta, basada en el análisis del gráfico, es la B) En ambos sexos, las ITS bacterianas son las más consultadas.

#### **PREGUNTA 44**

Para determinar la pregunta de investigación que pudo haber guiado este estudio, debemos analizar las variables presentadas en la tabla y las posibles relaciones entre ellas. La tabla compara dos grupos de niñas: aquellas con sobrepeso y aquellas sin sobrepeso. Para cada grupo, se proporcionan dos datos: la edad promedio de las niñas y la edad promedio en la que ocurrió su primera menstruación.

Las opciones de respuesta son:

A) ¿Cuál es la relación que existe entre la edad promedio de las niñas y la edad de inicio de la menstruación?

B) ¿Cuál es la relación que existe entre el nivel que cursan las niñas en el colegio y la edad de inicio de la menstruación?

C) ¿Cuál es la relación que existe entre el sobrepeso y la edad en la que ocurre la primera menstruación?

D) ¿Cuál es la relación que existe entre la edad que tienen las niñas y el sobrepeso?

La opción A no parece ser la correcta, ya que la tabla no está diseñada para comparar la edad promedio de las niñas con la edad de inicio de la menstruación directamente, sino que compara estos datos entre dos grupos distintos (con sobrepeso y sin sobrepeso).

La opción B tampoco es correcta, ya que el nivel que cursan en el colegio (séptimo) es el mismo para ambos grupos y no se está investigando su relación con la edad de inicio de la menstruación.

La opción C es la más plausible, ya que la tabla compara la edad promedio de la primera menstruación entre niñas con sobrepeso y sin sobrepeso, lo que sugiere que la investigación podría estar interesada en explorar si el sobrepeso tiene alguna influencia en la edad de la primera menstruación.

La opción D no es correcta porque, aunque la tabla muestra la edad promedio de las niñas, no está diseñada para investigar la relación entre la edad y el sobrepeso directamente.

Por lo tanto, la opción C es la que señala correctamente la pregunta de investigación que pudo haber guiado este estudio:

C) ¿Cuál es la relación que existe entre el sobrepeso y la edad en la que ocurre la primera menstruación?

#### **PREGUNTA 45**

Para responder a esta pregunta, debemos considerar cómo cambia el número de folículos primarios en los ovarios a lo largo de la vida de una mujer. Al nacer, las mujeres tienen la cantidad máxima de folículos primarios que tendrán en su vida, y este número disminuye con el tiempo debido a la atresia y a la liberación de algunos folículos durante la ovulación.

El gráfico que buscamos debe mostrar una disminución en el número de folículos primarios a medida que aumentan los años. La disminución es más rápida al principio y se vuelve más lenta a medida que se acerca la menopausia, pero nunca aumenta ni se mantiene constante.

Analizando las opciones:

- La opción A muestra una disminución rápida al principio que se va haciendo más lenta con el tiempo, lo cual es consistente con el proceso de atresia y la disminución de folículos primarios.



- La opción B muestra un aumento en el número de folículos con el tiempo, lo cual es incorrecto.
- La opción C muestra un número constante de folículos seguido de una disminución, lo cual tampoco es correcto porque el número de folículos disminuye continuamente desde el nacimiento.
- La opción D muestra un número constante de folículos durante un período de tiempo seguido de una disminución repentina, lo cual tampoco refleja el proceso gradual de atresia.

Por lo tanto, la opción A es la que muestra de manera más adecuada el cambio en el número de folículos primarios a lo largo de la vida de una mujer sana, ya que refleja una disminución continua y gradual desde el nacimiento hasta la menopausia.

#### **PREGUNTA 46**

Para esclarecer el contenido nutricional del alimento X, Pablo necesita identificar los diferentes nutrientes presentes en él. Los reactivos que tiene disponibles son el reactivo de Biuret, que detecta la presencia de enlaces peptídicos (y por lo tanto, la presencia de proteínas), y lugol, que detecta la presencia de almidón (un tipo de carbohidrato).

Ahora, vamos a analizar cada una de las opciones para determinar cuál sería una pregunta de investigación pertinente al propósito de Pablo:

- A) Esta opción pregunta sobre la detección de lípidos, pero Pablo no tiene reactivos para detectar lípidos, por lo que no es pertinente.
- B) Esta opción se enfoca en el protocolo y el tiempo para identificar biomoléculas, pero no necesariamente ayuda a esclarecer el contenido nutricional específico del alimento X.
- C) Esta opción es pertinente porque pregunta sobre la proporción de carbohidratos (almidón) con respecto a las proteínas en el alimento X, lo cual es relevante para entender el contenido nutricional del alimento.
- D) Aunque la contribución calórica es parte del contenido nutricional, esta opción no se relaciona directamente con el uso de los reactivos disponibles para detectar nutrientes específicos.

Por lo tanto, la opción más pertinente para la pregunta de investigación de Pablo sería la opción C) ¿En qué proporción están presentes los carbohidratos con respecto a las proteínas en el alimento X?

#### **PREGUNTA 47**

Durante la profase de la meiosis I, ocurren varios eventos que son característicos de esta fase y que no se presentan en la profase de la mitosis. Vamos a revisar las opciones dadas:

- A) Desaparición del nucléolo: Este evento ocurre tanto en la profase de la meiosis como en la profase de la mitosis, por lo que no es exclusivo de la meiosis I.
- B) Formación del huso acromático: La formación del huso acromático también ocurre en ambas, la meiosis y la mitosis, por lo que tampoco es exclusivo de la meiosis I.
- C) Desorganización de la carioteca: La desorganización o desintegración de la carioteca sucede en ambas divisiones celulares, así que no es un evento único de la meiosis I.
- D) Condensación de los cromosomas: La condensación de los cromosomas es un proceso que se da tanto en la meiosis como en la mitosis, por lo que no es específico de la meiosis I.
- E) Apareamiento de los cromosomas homólogos: Este es el evento clave que diferencia la profase de la meiosis I de la profase de la mitosis. Durante la profase meiótica I, los cromosomas homólogos se aparean en un proceso conocido como sinapsis, formando estructuras llamadas bivalentes o tétradas. Este apareamiento permite el entrecruzamiento o recombinación genética, que es fundamental para la variabilidad genética. Este evento no ocurre en la mitosis.

Por lo tanto, la respuesta correcta es:

- E) Apareamiento de los cromosomas homólogos

#### **PREGUNTA 48**

La tabla proporcionada muestra las etapas de un proceso de división celular y cómo varía la cantidad de ADN y la dotación cromosómica en cada etapa. Las etapas mencionadas son características de la meiosis, que es un tipo de división celular que reduce a la mitad el número de cromosomas y produce células reproductivas o gametos en organismos vertebrados.

Las etapas de la meiosis se dividen en dos rondas sucesivas: Meiosis I y Meiosis II. Durante la Meiosis I, los cromosomas homólogos se separan, y durante la Meiosis II, los cromátidas hermanas se separan. La cantidad de ADN se duplica antes de que comience la meiosis (durante la interfase, que no se muestra en la tabla), y luego se reduce a través de las dos divisiones meióticas sucesivas.

Analizando las opciones:

- A) No es correcta porque la tabla no describe dos divisiones mitóticas, sino meióticas.
- B) Es incorrecta porque la cantidad total de cromosomas no cambia durante la división celular; lo que cambia es la dotación cromosómica de cada célula hija, que se reduce a la mitad en comparación con la célula madre.
- C) Esta opción es correcta. La tabla muestra cómo varía la cantidad de ADN y la dotación cromosómica durante las distintas etapas de la división celular meiótica, desde la Profase I hasta la Telofase II.
- D) Esta opción es incorrecta porque no se refiere a dos divisiones celulares sucesivas en general, sino específicamente a la meiosis, que es un tipo de división celular especializada en la producción de gametos.

Por lo tanto, la respuesta correcta es la opción C) Variaciones en la cantidad de material genético en distintas etapas de la división celular meiótica.

#### PREGUNTA 49

La frase entre comillas indica una observación hecha por los investigadores durante su estudio: "detectó que las bacterias sintetizan el precursor de la insulina pero no lo procesan". Esto no es una hipótesis, ya que no es una suposición o explicación inicial que se pone a prueba. Tampoco es un objetivo, ya que no describe lo que los investigadores esperaban lograr con su investigación.

La frase podría considerarse una inferencia si los investigadores estuvieran interpretando datos o resultados para llegar a una conclusión. Sin embargo, la frase parece ser más descriptiva y directa, indicando lo que se observó durante el experimento.

Por lo tanto, la opción más adecuada es que la frase corresponde a un resultado (C), ya que describe un hallazgo concreto obtenido a partir de la investigación realizada.

#### PREGUNTA 50

Para resolver esta pregunta, primero debemos entender cómo varía la cantidad de ADN durante las diferentes etapas de la meiosis.

1. Durante la fase G1, la célula tiene una cantidad normal de ADN, que representamos como  $c$ .
2. En la fase S, la célula replica su ADN, por lo que al final de esta fase y durante G2, la cantidad de ADN se duplica a  $2c$ .
3. Al final de la meiosis I (MI), la célula se ha dividido en dos células hijas, cada una con la cantidad de ADN duplicada, pero como hay dos células, la cantidad de ADN por célula vuelve a ser  $c$ .
4. Al final de la meiosis II (MII), cada una de las dos células hijas de la meiosis I se ha dividido nuevamente, resultando en cuatro células hijas, cada una con la mitad del ADN de una célula G1, es decir,  $\frac{c}{2}$ .

Dado que en la etapa S-G2 se contabilizaron 60 pg de ADN, esto corresponde a  $2c$  porque es después de la duplicación del ADN. Por lo tanto,  $c$ , la cantidad de ADN en G1, sería la mitad de 60 pg, es decir, 30 pg.

Al término de MII, cada célula debería tener  $\frac{c}{2}$ . Entonces, si  $c = 30$  pg, al final de MII, cada célula debería tener:

$$\frac{30 \text{ pg}}{2} = 15 \text{ pg}$$

Por lo tanto, la cantidad de ADN que debería contabilizar el equipo al término de MII es de 15.0 pg, que corresponde a la opción C) 15.0 pg.

### PREGUNTA 51

La pregunta se refiere al modelo biológico de estudio que los científicos utilizan para aplicar técnicas biotecnológicas en la modificación genética de plantas de cultivo. Las opciones A), C) y D) son características o rasgos que se pueden mejorar mediante la biotecnología, pero no son el modelo de estudio en sí. La opción B) “Las plantas de cultivo” es la que mejor se ajusta a la descripción de un modelo biológico de estudio, ya que son el objeto de investigación y modificación en la biotecnología agrícola. Por lo tanto, la respuesta correcta es:

B) Las plantas de cultivo

### PREGUNTA 52

En una cadena trófica, la energía fluye desde los productores hasta los consumidores de diferentes niveles. Los productores, que generalmente son plantas o algas, capturan la energía del sol y la convierten en energía química a través de la fotosíntesis. Esta energía es la que se transfiere a través de la cadena trófica.

Los consumidores primarios son los herbívoros que se alimentan directamente de los productores. Los consumidores secundarios son los carnívoros que se alimentan de los consumidores primarios, y los consumidores terciarios son los carnívoros que se alimentan de los consumidores secundarios. Los carroñeros se alimentan de animales muertos y no están directamente involucrados en la transferencia de energía desde los productores.

Debido a la regla del 10%, solo alrededor del 10% de la energía se transfiere de un nivel trófico al siguiente. Esto significa que los productores tienen la mayor cantidad de energía disponible para transferir a otros organismos, ya que son la fuente de energía para todos los demás niveles tróficos.

Por lo tanto, la respuesta correcta es:

A) los productores.

### PREGUNTA 53

Claro, analicemos el gráfico y las opciones proporcionadas:

El gráfico muestra cómo la productividad primaria neta (en unidades arbitrarias, u.a.) de un bosque joven varía con la temperatura ambiente. La productividad primaria neta es la cantidad de energía que las plantas acumulan en forma de biomasa después de utilizar la energía necesaria para su metabolismo.

Observamos que la productividad primaria neta aumenta con la temperatura hasta cierto punto, después del cual comienza a disminuir. Esto sugiere que hay una temperatura óptima para la productividad primaria neta, y que tanto temperaturas más bajas como más altas que este óptimo pueden tener un efecto negativo en la productividad.

Ahora, revisemos las opciones:

A) A temperaturas inferiores a los  $0^{\circ}\text{C}$ , la vegetación estudiada gasta más energía en su metabolismo, por lo que no hay productividad primaria neta.

- Esta opción es plausible, ya que a temperaturas muy bajas, las plantas pueden necesitar gastar más energía para mantener sus procesos metabólicos, lo que podría reducir la productividad primaria neta. Sin embargo, el gráfico no muestra que la productividad sea cero por debajo de  $0^{\circ}\text{C}$ , solo que es más baja que a temperaturas más altas.

B) A temperaturas superiores a los  $40^{\circ}\text{C}$ , la vegetación estudiada aumenta la transpiración, aumentando la productividad primaria neta.

- Esta opción es incorrecta porque el gráfico muestra que la productividad primaria neta disminuye después de superar un cierto punto de temperatura, que parece estar alrededor de los  $30 - 40^{\circ}\text{C}$ . El aumento de la transpiración generalmente no aumenta la productividad primaria neta; más bien, puede ser una respuesta al estrés por calor que puede llevar a una disminución de la productividad debido a la pérdida de agua y el cierre de estomas.

C) Entre  $20^{\circ}\text{C}$  y  $40^{\circ}\text{C}$ , la vegetación estudiada aumenta la tasa fotosintética, elevando la productividad primaria neta.

- Esta opción parece ser la más acertada, ya que el gráfico muestra un aumento en la productividad primaria neta en este rango de temperatura, lo que podría estar asociado con un aumento en la tasa fotosintética.

D) A temperaturas superiores a  $40^{\circ}\text{C}$ , la productividad primaria neta aumenta, ya que la vegetación estudiada incrementa la tasa fotosintética.

- Esta opción es incorrecta porque el gráfico muestra claramente que la productividad primaria neta disminuye a temperaturas superiores a  $40^{\circ}\text{C}$ .

Por lo tanto, la inferencia más correcta basada en el gráfico es la opción C.

#### PREGUNTA 54

Para responder a esta pregunta, debemos considerar la información proporcionada:

1. La planta 1 alcanza la máxima eficiencia fotosintética con la mitad de la concentración de  $\text{CO}_2$  que la planta 2.
2. Después de alcanzar la máxima tasa fotosintética, el valor no varía a pesar de aumentar la concentración de  $\text{CO}_2$  en ambas plantas.

Con estos puntos en mente, buscaremos un gráfico que muestre que una de las plantas (planta 1) alcanza su máxima tasa fotosintética a una concentración de  $\text{CO}_2$  más baja que la otra planta (planta 2). Además, ambos gráficos deben mostrar una meseta (un nivel constante de tasa fotosintética) después de alcanzar la máxima eficiencia, independientemente de un aumento en la concentración de  $\text{CO}_2$ .

Ahora, revisemos las opciones de gráficos proporcionadas:

- Opción A: Muestra que la planta 1 alcanza su máxima tasa fotosintética antes que la planta 2, y ambas tasas se mantienen constantes después de alcanzar su máximo. Esto coincide con la descripción.
- Opción B: Muestra que la planta 1 alcanza su máxima tasa fotosintética después que la planta 2, lo cual no coincide con la descripción.
- Opción C: Muestra que la planta 2 alcanza su máxima tasa fotosintética antes que la planta 1, lo cual no coincide con la descripción.
- Opción D: Muestra que la planta 1 alcanza su máxima tasa fotosintética antes que la planta 2, y ambas tasas se mantienen constantes después de alcanzar su máximo. Esto también coincide con la descripción.

Entre las opciones A y D, la diferencia clave es la concentración de  $\text{CO}_2$  en la que cada planta alcanza su máxima tasa fotosintética. La opción correcta será aquella en la que la planta 1 alcance su máxima tasa fotosintética con la mitad de la concentración de  $\text{CO}_2$  en comparación con la planta 2.

Si observamos detenidamente, la Opción A muestra que la planta 1 alcanza su máxima tasa fotosintética a una concentración de  $\text{CO}_2$  significativamente menor que la planta 2, posiblemente alrededor de la mitad de la concentración necesaria para la planta 2. Por lo tanto, la Opción A es la que mejor representa los datos obtenidos según la descripción proporcionada.

#### PREGUNTA 55

Para determinar si un recipiente contiene una mezcla, debemos observar si hay más de un tipo de molécula presente. Una mezcla se define como un sistema material formado por dos o más componentes que no reaccionan químicamente entre sí y cuyos componentes pueden ser separados por métodos físicos.

En el esquema proporcionado, cada tipo de molécula está representado por un conjunto de círculos conectados. Los círculos de diferentes tamaños o colores representan diferentes tipos de átomos, y la forma en que están conectados representa la estructura de la molécula.

- En el Recipiente 1, hay dos tipos de moléculas: una formada por dos círculos grandes conectados y otra formada por un círculo grande y uno pequeño conectados. Esto indica que hay al menos dos tipos diferentes de moléculas, lo que significa que es una mezcla.
- En el Recipiente 2, todas las moléculas son idénticas, cada una formada por un círculo grande y dos pequeños conectados. Esto indica que hay un solo tipo de molécula, por lo que no es una mezcla.
- En el Recipiente 3, todas las moléculas son idénticas, cada una formada por dos círculos grandes conectados. Esto también indica que hay un solo tipo de molécula, por lo que no es una mezcla.

Por lo tanto, la afirmación correcta que explica por qué solo en el recipiente 1 hay una mezcla es:

D) Los diferentes tipos de moléculas presentes en el recipiente.

Esta afirmación es correcta porque en el recipiente 1 hay más de un tipo de molécula, lo que es característico de una mezcla. Las otras opciones no son correctas porque no se refieren a la presencia de diferentes tipos de moléculas, que es lo que define una mezcla.

### PREGUNTA 56

La destilación es un método de separación que se basa en las diferencias en los puntos de ebullición de los componentes de una mezcla. Durante el proceso de destilación, la mezcla se calienta hasta que uno de los componentes comienza a evaporarse. El vapor de este componente se condensa luego en otro recipiente, separándolo del resto de la mezcla.

Ahora, analicemos las opciones dadas:

- A) El que tiene una temperatura de fusión menor. - La temperatura de fusión no es relevante en este caso, ya que estamos hablando de líquidos y su separación se basa en la ebullición, no en la fusión.
- B) El que tiene una mayor densidad. - La densidad tampoco es un factor determinante en la destilación, ya que no afecta directamente el punto de ebullición de un líquido.
- C) El que tiene una temperatura de ebullición menor. - Esta es la opción correcta. El componente con la temperatura de ebullición más baja destilará primero, ya que se convertirá en vapor a una temperatura más baja que el otro componente.
- D) El que tiene una menor masa. - La masa de los componentes no afecta el orden en el que destilan. Lo que importa es la temperatura a la que cada componente pasa de líquido a gas.

Por lo tanto, la respuesta correcta es:

- C) El que tiene una temperatura de ebullición menor.

### PREGUNTA 57

Para responder a esta pregunta, primero debemos entender qué información se está recopilando y cómo se relaciona con las propiedades de los elementos.

Los estudiantes miden las dimensiones de los bloques metálicos para calcular su volumen. El volumen de un bloque se puede calcular multiplicando las tres dimensiones: largo, alto y ancho. La fórmula para el volumen de un prisma rectangular es:

$$V = \text{largo} \times \text{alto} \times \text{ancho}$$

Luego, los estudiantes miden la masa de cada bloque metálico. Con la masa y el volumen, pueden calcular la densidad de cada metal utilizando la fórmula:

$$\text{densidad} = \frac{\text{masa}}{\text{volumen}}$$

La densidad es una propiedad física que puede relacionarse con la posición de un elemento en la tabla periódica, ya que los elementos en un mismo grupo suelen mostrar tendencias en sus propiedades físicas y químicas.

Ahora, revisemos las opciones dadas:

- A) Determinar si existe una relación entre la densidad de los elementos estudiados y su posición en la tabla periódica.
- B) Determinar si existe una relación entre las propiedades de los elementos estudiados y su posición en la tabla periódica.
- C) Determinar si existe una relación entre el volumen atómico de los elementos estudiados y su posición en la tabla periódica.
- D) Determinar si existe una relación entre la masa atómica de los elementos estudiados y su posición en la tabla periódica.

La opción A es específica sobre la densidad, que es lo que los estudiantes pueden calcular con los datos proporcionados. La opción B es más general y podría incluir cualquier propiedad, no solo la densidad. La opción C no es relevante para este experimento, ya que el volumen atómico se refiere al volumen ocupado por un mol de átomos, y no es lo que se está midiendo aquí. La opción D tampoco es relevante, ya que la masa atómica es una propiedad conocida de los elementos y no se determina a través de este tipo de experimento.

Por lo tanto, la opción más coherente con el objetivo de la investigación descrita es:

A) Determinar si existe una relación entre la densidad de los elementos estudiados y su posición en la tabla periódica.

### PREGUNTA 58

El hielo seco es dióxido de carbono ( $CO_2$ ) en estado sólido. Cuando se sublima, pasa directamente del estado sólido al estado gaseoso sin pasar por el estado líquido. Esto ocurre a una temperatura de sublimación de  $-78.5^\circ C$  a 1 atm de presión.

La nube densa que se forma alrededor del bloque de hielo seco y que tiende a bajar y esparcirse es causada por la condensación del vapor de agua presente en el aire. El intenso frío generado por la sublimación del hielo seco hace que el vapor de agua en el aire se enfríe rápidamente y se condense en pequeñas gotas de agua líquida, formando una nube visible.

Por lo tanto, la explicación correcta para la formación de esta nube es:

A) Se debe a que el vapor de agua del ambiente está pasando a estado líquido debido al intenso frío.

Esta explicación es consistente con el hecho de que el dióxido de carbono gaseoso es incoloro y no contribuiría a la formación de una nube visible. Además, la opción B no es correcta porque el hielo seco no pasa por el estado líquido durante la sublimación. La opción C tampoco es correcta porque el agua no está pasando a estado gaseoso, sino que está condensándose. La opción D describe correctamente el proceso de sublimación del hielo seco, pero no explica la formación de la nube.

### PREGUNTA 59

Un anión es un ion con carga negativa, lo que significa que ha ganado electrones adicionales. Por lo tanto, para que una especie sea un anión, el número de electrones ( $e$ ) debe ser mayor que el número atómico ( $Z$ ), que representa el número de protones en el núcleo.

Ahora, revisemos las opciones dadas:

A)  $Z : 7, e : 4$  - Aquí, el número de electrones es menor que el número atómico, lo que indicaría una carga positiva, o un catión, no un anión.

B)  $Z : 9, e : 10$  - Aquí, el número de electrones es mayor que el número atómico, lo que sugiere una carga negativa, o un anión.

C)  $Z : 8, e : 8$  - Aquí, el número de electrones es igual al número atómico, lo que indica un átomo neutro, no un ion.

D)  $Z : 11, e : 10$  - Aquí, el número de electrones es menor que el número atómico, lo que también indicaría una carga positiva, o un catión.

Por lo tanto, la única opción que corresponde a un anión es la opción B)  $Z : 9, e : 10$ .

### PREGUNTA 60

Claro, vamos a analizar cada opción y su correspondencia con la ubicación en la tabla periódica y las características de los elementos en esos grupos:

A) Grupo: 16 (VI A), Característica: No Metal El grupo 16, también conocido como los calcógenos, incluye elementos como el oxígeno (O), el azufre (S), el selenio (Se), entre otros. Estos elementos son efectivamente no metales o metaloides, por lo que esta opción es correcta.

B) Grupo: 18 (VIII A), Característica: Metal El grupo 18 está compuesto por los gases nobles, como el helio (He), el neón (Ne), el argón (Ar), etc. Estos elementos son conocidos por ser no metales y por su falta de reactividad, por lo que esta opción es incorrecta.

C) Grupo: 17 (VII A), Característica: Metal El grupo 17, conocido como los halógenos, incluye elementos como el flúor (F), el cloro (Cl), el bromo (Br), entre otros. Estos elementos son no metales y son muy reactivos, por lo que esta opción también es incorrecta.

D) Grupo: 2 (II A), Característica: No Metal El grupo 2 está compuesto por los metales alcalinotérreos, como el berilio (Be), el magnesio (Mg), el calcio (Ca), etc. Estos elementos son metales y no no metales, por lo que esta opción es incorrecta.

Por lo tanto, la opción correcta es:

A) Grupo: 16 (VI A), Característica: No Metal

### PREGUNTA 61

Para determinar la fórmula del compuesto formado por la unión de los átomos X e Y, primero debemos identificar la valencia de cada uno de ellos, es decir, cuántos electrones pueden ganar o perder para alcanzar una configuración electrónica estable.

Observando el esquema:

- El átomo X tiene 3 protones (3p) y por lo tanto 3 electrones, ya que es neutro. Tiene 2 electrones en su primera capa y 1 electrón en su segunda capa. Para alcanzar la estabilidad, puede perder 1 electrón y alcanzar la configuración de gas noble más cercana (Helio, con 2 electrones). Por lo tanto, su valencia es +1.

- El átomo Y tiene 9 protones (9p) y por lo tanto 9 electrones. Tiene 2 electrones en su primera capa y 7 electrones en su segunda capa. Para alcanzar la estabilidad, puede ganar 1 electrón para completar su segunda capa con 8 electrones y alcanzar la configuración de gas noble más cercana (Neón, con 10 electrones). Por lo tanto, su valencia es -1.

Dado que X tiene una valencia de +1 y Y tiene una valencia de -1, se combinan en una proporción de 1:1 para neutralizar sus cargas y formar un compuesto estable. Por lo tanto, la fórmula del compuesto es XY.

La respuesta correcta es:

A) XY

### PREGUNTA 62

Para determinar cuál de los elementos representados en el esquema es el más electronegativo, debemos recordar cómo varía la electronegatividad en la tabla periódica. La electronegatividad aumenta de izquierda a derecha a lo largo de un período y de abajo hacia arriba a lo largo de un grupo.

En el esquema proporcionado, podemos ver que:

- El elemento X está en la parte superior izquierda, lo que indica que está en un grupo bajo y un período temprano.  
- El elemento Q está más a la derecha que X, pero también está más abajo en la tabla periódica.  
- El elemento Z está más a la derecha y en el mismo período que R, pero R está en un grupo más a la derecha que Z.  
- El elemento R está en la parte superior derecha, lo que indica que está en un grupo alto y un período tardío.

Dado que la electronegatividad aumenta a medida que nos movemos hacia la derecha y hacia arriba en la tabla periódica, el elemento R, que está más a la derecha y en la parte superior, sería el más electronegativo de los cuatro elementos presentados.

Por lo tanto, la respuesta correcta es:

D) R

### PREGUNTA 63

Para determinar el número de enlaces carbono-carbono con hibridación  $sp^3 - sp^2$  en la molécula de mirceno, primero debemos identificar los átomos de carbono que están hibridados como  $sp^3$  y  $sp^2$ .

Los átomos de carbono hibridados  $sp^2$  son aquellos que están involucrados en enlaces dobles (como parte del alqueno) o que están conectados a tres átomos (dos carbonos y un hidrógeno, por ejemplo) y tienen geometría planar trigonal. Por otro lado, los átomos de carbono hibridados  $sp^3$  son aquellos que están conectados a cuatro átomos (generalmente cuatro hidrógenos o tres hidrógenos y otro carbono) y tienen geometría tetraédrica.

En la estructura del mirceno proporcionada, podemos ver que hay enlaces dobles, lo que indica la presencia de carbonos  $sp^2$ . Los carbonos que no están involucrados en enlaces dobles y están conectados a cuatro sustituyentes (incluyendo hidrógenos que no se muestran en la fórmula estructural) son  $sp^3$ .

Contemos los enlaces  $sp^3 - sp^2$ :

- Hay un enlace entre el primer carbono  $sp^3$  de la izquierda y el carbono  $sp^2$  del primer enlace doble.
- Hay un enlace entre el carbono  $sp^3$  después del primer enlace doble y el carbono  $sp^2$  del segundo enlace doble.
- Hay un enlace entre el carbono  $sp^3$  después del segundo enlace doble y el carbono  $sp^2$  del tercer enlace doble.

Esto nos da un total de 3 enlaces  $sp^3 - sp^2$ .

Por lo tanto, la respuesta correcta es: A) 3.

#### PREGUNTA 64

Para determinar la fórmula molecular del medicamento representado en la imagen, debemos contar el número de átomos de carbono (C), hidrógeno (H) y oxígeno (O) presentes en la molécula.

Empecemos con los átomos de carbono:

- Hay dos anillos bencénicos, cada uno con 6 átomos de carbono, lo que nos da un total de  $6 \times 2 = 12$  átomos de carbono.
- Además, hay un grupo metilo ( $CH_3$ ) unido al anillo de la izquierda, añadiendo 1 átomo de carbono más.
- En el lado derecho, hay otro grupo metilo ( $CH_3$ ) unido a un átomo de carbono central, sumando 2 átomos de carbono más.
- El átomo de carbono central al que está unido el grupo metilo también cuenta, añadiendo 1 átomo de carbono más.
- Finalmente, el grupo carbonilo ( $C=O$ ) y el grupo carboxilo ( $COOH$ ) comparten un átomo de carbono.

En total, tenemos  $12 + 1 + 2 + 1 = 16$  átomos de carbono.

Ahora contemos los átomos de hidrógeno:

- Cada anillo bencénico tiene 3 hidrógenos sustituidos por otros grupos, por lo que quedan  $5 \times 2 = 10$  hidrógenos en los anillos.
- Hay 3 hidrógenos en cada grupo metilo, sumando  $3 \times 2 = 6$  hidrógenos.
- El grupo carboxilo tiene un hidrógeno adicional.

En total, tenemos  $10 + 6 + 1 = 17$  átomos de hidrógeno.

Finalmente, contemos los átomos de oxígeno:

- Hay un grupo metoxi ( $OCH_3$ ) con 1 átomo de oxígeno.
- Hay un grupo carbonilo ( $C=O$ ) con 1 átomo de oxígeno.
- Hay un grupo carboxilo ( $COOH$ ) con 2 átomos de oxígeno.

En total, tenemos  $1 + 1 + 2 = 4$  átomos de oxígeno.

Por lo tanto, la fórmula molecular del medicamento es  $C_{16}H_{17}O_4$ . Sin embargo, esta opción no se encuentra entre las respuestas proporcionadas, lo que sugiere que podría haber un error en el conteo. Vamos a revisar el conteo una vez más para asegurarnos:

- Átomos de carbono: 12 en los anillos bencénicos + 1 en el grupo metilo izquierdo + 1 en el grupo metilo derecho + 1 en el carbono al que están unidos los grupos metilo y carboxilo = 15 átomos de carbono.
- Átomos de hidrógeno: 10 en los anillos bencénicos + 6 en los grupos metilo + 1 en el grupo carboxilo = 17 átomos de hidrógeno.
- Átomos de oxígeno: 1 en el grupo metoxi + 1 en el grupo carbonilo + 2 en el grupo carboxilo = 4 átomos de oxígeno.

La fórmula molecular correcta es  $C_{15}H_{14}O_4$ , pero esta opción tampoco se encuentra entre las respuestas proporcionadas. Parece que hay un error en las opciones de respuesta o en el conteo inicial. Vamos a intentar el conteo una vez más para confirmar:

- Átomos de carbono: 12 en los anillos bencénicos + 1 en el grupo metilo izquierdo + 1 en el grupo metilo derecho + 1 en el carbono al que están unidos los grupos metilo y carboxilo = 15 átomos de carbono.
- Átomos de hidrógeno: 10 en los anillos bencénicos + 6 en los grupos metilo + 1 en el grupo carboxilo = 17 átomos de hidrógeno.
- Átomos de oxígeno: 1 en el grupo metoxi + 1 en el grupo carbonilo + 2 en el grupo carboxilo = 4 átomos de oxígeno.

La fórmula molecular correcta, basada en el conteo más reciente, es  $C_{15}H_{14}O_4$ . Sin embargo, dado que esta opción no está disponible, debemos asumir que hay un error en las opciones proporcionadas o en la interpretación de la



estructura de la molécula. Si se espera que elijamos una de las opciones dadas, entonces debemos revisar la estructura una vez más y asegurarnos de que estamos contando correctamente los átomos.

Después de revisar cuidadosamente, la fórmula molecular correcta basada en la estructura proporcionada es  $C_{15}H_{14}O_4$ , pero dado que esta opción no está disponible, debemos elegir la opción que más se acerque a nuestro conteo. La opción más cercana sería  $C_{14}H_{14}O_3$ , pero esto implicaría que hemos contado un carbono y un oxígeno de menos. Vamos a ajustar nuestro conteo para ver si esta opción podría ser correcta:

- Átomos de carbono: 12 en los anillos bencénicos + 1 en el grupo metilo izquierdo + 1 en el grupo metilo derecho = 14 átomos de carbono. - Átomos de hidrógeno: 10 en los anillos bencénicos + 6 en los grupos metilo = 16 átomos de hidrógeno. - Átomos de oxígeno: 1 en el grupo metoxi + 1 en el grupo carbonilo + 1 en el grupo carboxilo = 3 átomos de oxígeno.

Con este ajuste, la fórmula molecular sería  $C_{14}H_{16}O_3$ , pero esto tampoco coincide con ninguna de las opciones proporcionadas. Por lo tanto, parece haber un error en el conteo o en las opciones de respuesta. Dado que no podemos cambiar la estructura de la molécula y las opciones de respuesta son fijas, debemos elegir la opción que más se acerque a nuestro conteo correcto. La opción  $C_{14}H_{14}O_3$  (opción D) es la que más se acerca a nuestro conteo, aunque no es exactamente correcta según nuestro análisis.

Por lo tanto, la respuesta correcta basada en las opciones proporcionadas y nuestro conteo sería:

D)  $C_{14}H_{14}O_3$

### PREGUNTA 65

Para determinar cuál de las estructuras dadas corresponde al modelo tridimensional de la molécula orgánica, debemos analizar las características visibles en el modelo y compararlas con las estructuras químicas proporcionadas.

El modelo tridimensional muestra una serie de esferas que representan átomos en la molécula. Los colores de las esferas suelen indicar diferentes tipos de átomos, pero como no se proporciona una leyenda de colores, asumiremos que las esferas más grandes y de color claro representan átomos de carbono y las esferas más pequeñas y oscuras representan átomos de oxígeno, que es una convención común en los modelos moleculares.

La molécula parece tener una estructura cíclica, con un anillo de seis átomos de carbono, lo que sugiere que es un compuesto aromático, probablemente un benceno o un derivado del benceno. Además, hay un grupo funcional unido al anillo que incluye átomos de oxígeno.

Ahora, examinemos las estructuras proporcionadas:

A) Tiene un anillo de seis miembros y un grupo funcional de cetona ( $C=O$ ) con dos grupos alquilo unidos al carbono de la cetona. Sin embargo, no hay un grupo hidroxilo ( $-OH$ ) presente en el modelo tridimensional.

B) Tiene un anillo de seis miembros y un grupo funcional de éster ( $C=O-O-C$ ) unido al anillo. Esta estructura también tiene un grupo metilo ( $-CH_3$ ) unido al oxígeno del éster.

C) Tiene un anillo de seis miembros y un grupo funcional de aldehído ( $C=O$ ) con un hidrógeno unido al carbono del aldehído. No hay grupos adicionales unidos al carbono del aldehído.

D) Tiene un anillo de seis miembros y un grupo funcional de cetona ( $C=O$ ) con un hidrógeno unido al carbono de la cetona.

Comparando el modelo tridimensional con las estructuras, la opción que más se asemeja es la que tiene un anillo de seis miembros y un grupo funcional unido a él que incluye átomos de oxígeno. La estructura debe tener un grupo funcional con dos átomos de oxígeno, lo que descarta las opciones C y D, ya que solo tienen un átomo de oxígeno en el grupo funcional.

Entre las opciones A y B, la opción B tiene un grupo éster, que incluye dos átomos de oxígeno, mientras que la opción A tiene un grupo cetona con un solo átomo de oxígeno en el grupo funcional. Por lo tanto, la opción B es la que más se asemeja al modelo tridimensional proporcionado.

La respuesta correcta es la opción B.

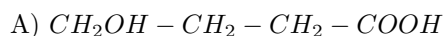
### PREGUNTA 66

Claro, analicemos la estructura de la molécula orgánica presentada en la imagen. La molécula tiene una cadena de carbonos con un grupo hidroxilo (OH) en un extremo y un grupo carboxilo (COOH) en el otro extremo. La cadena de carbonos es lineal y no hay ramificaciones.

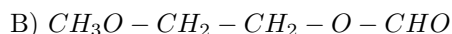
La estructura se puede describir de la siguiente manera:

- Comenzando desde el extremo izquierdo, hay un grupo hidroxilo unido al primer carbono. - Luego, hay dos carbonos más en la cadena, cada uno unido a dos hidrógenos (ya que no se muestran, se asume que los carbonos tienen cuatro enlaces en total, completados con hidrógenos). - Finalmente, en el extremo derecho, hay un grupo carboxilo unido al último carbono de la cadena.

La fórmula semidesarrollada de esta molécula debe reflejar esta estructura. Vamos a comparar las opciones dadas con la estructura de la molécula:



- Esta opción tiene un grupo hidroxilo al principio y un grupo carboxilo al final, con dos carbonos en medio, cada uno con dos hidrógenos. Esto coincide con la estructura de la molécula.

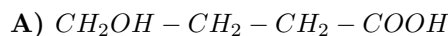


- Esta opción tiene un grupo metoxi ( $CH_3O$ ) al principio, lo cual no está presente en la estructura de la molécula. Además, tiene un grupo aldehído (CHO) al final, lo cual tampoco está presente en la estructura de la molécula.

C)  $CH_2OH - CH_2 - CH_2O - CH_2OH$  - Esta opción tiene dos grupos hidroxilo, uno al principio y otro al final, pero también tiene un grupo éter ( $CH_2O$ ) en la cadena, lo cual no se observa en la estructura de la molécula.

D)  $CH_3O - CH_2 - CH_2 - CH_2OH$  - Esta opción, al igual que la B, tiene un grupo metoxi al principio y no tiene un grupo carboxilo al final.

Por lo tanto, la opción correcta que representa la fórmula semidesarrollada de la molécula presentada es:



### PREGUNTA 67

Para clasificar los alcoholes como primarios, secundarios o terciarios, necesitamos observar el átomo de carbono al que está unido el grupo hidroxilo (-OH).

Un alcohol primario tiene el grupo hidroxilo unido a un carbono que está unido a un máximo de un otro átomo de carbono. Un alcohol secundario tiene el grupo hidroxilo unido a un carbono que está unido a dos otros átomos de carbono. Un alcohol terciario tiene el grupo hidroxilo unido a un carbono que está unido a tres otros átomos de carbono.

Ahora, clasifiquemos los alcoholes dados:

1. Para el alcohol  $CH_3CH_2CH_2OH$ , el grupo hidroxilo está unido al carbono terminal, que a su vez está unido solo a un otro átomo de carbono. Por lo tanto, este es un alcohol primario.

2. Para el alcohol  $CH_3CHOHCH_3$ , el grupo hidroxilo está unido a un carbono que está unido a dos otros átomos de carbono (ambos grupos metilo,  $CH_3$ ). Por lo tanto, este es un alcohol secundario.

Con esta información, la opción correcta es la B)  $CH_3CH_2CH_2OH$ : Primario,  $CH_3CHOHCH_3$ : Secundario.

### PREGUNTA 68

Para determinar la fórmula estructural de los compuestos orgánicos monohalogenados con temperaturas de ebullición de  $107.8^\circ C$  y  $129.6^\circ C$ , debemos observar la tendencia en la tabla proporcionada.

La tabla muestra que a medida que aumenta el tamaño de la cadena de carbonos, la temperatura de ebullición aumenta para un halógeno dado. Además, para una cadena de carbonos de longitud constante, la temperatura de ebullición aumenta al pasar de fluor (F) a cloro (Cl), a bromo (Br) y finalmente a yodo (I), debido al aumento del peso molecular y las fuerzas intermoleculares.

Dado que no tenemos un compuesto con cinco átomos de carbono en la tabla, podemos extrapolar la tendencia observada para predecir las temperaturas de ebullición de los compuestos con cinco átomos de carbono. Basándonos en la tendencia, podemos esperar que la temperatura de ebullición de un compuesto con cinco átomos de carbono y

un átomo de flúor sea mayor que  $32.5^{\circ}\text{C}$  (la temperatura de ebullición del compuesto con cuatro átomos de carbono y flúor) pero menor que  $78.4^{\circ}\text{C}$  (la temperatura de ebullición del compuesto con cuatro átomos de carbono y cloro).

Siguiendo esta lógica, el compuesto con una temperatura de ebullición de  $107.8^{\circ}\text{C}$  no puede ser el que tiene flúor, ya que sería demasiado baja. Debe ser uno con un halógeno más pesado. De manera similar, el compuesto con una temperatura de ebullición de  $129.6^{\circ}\text{C}$  debe tener un halógeno aún más pesado.

Por lo tanto, la opción que mejor se ajusta a esta lógica es la que tiene bromo (Br) para el compuesto con una temperatura de ebullición de  $107.8^{\circ}\text{C}$  y yodo (I) para el compuesto con una temperatura de ebullición de  $129.6^{\circ}\text{C}$ . Esto corresponde a la opción C:

C)  $\text{CH}_3 - \text{CH}_2 - \text{CH}_2 - \text{CH}_2 - \text{CH}_2\text{Br}$  y  $\text{CH}_3 - \text{CH}_2 - \text{CH}_2 - \text{CH}_2 - \text{CH}_2\text{I}$

### PREGUNTA 69

Para nombrar correctamente el compuesto orgánico mostrado en la imagen, debemos seguir las reglas de la nomenclatura IUPAC. Aquí están los pasos que debemos seguir:

1. **Identificar la cadena principal:** La cadena principal es la cadena más larga de átomos de carbono que contiene el doble enlace. En este caso, la cadena principal tiene seis átomos de carbono y el doble enlace está entre el tercer y cuarto carbono.

2. **Numerar la cadena principal:** La numeración debe comenzar desde el extremo más cercano al doble enlace para dar los localizadores más bajos posibles. En este caso, comenzamos a numerar desde el extremo derecho para que el doble enlace esté entre los carbonos 3 y 4.

3. **Identificar y nombrar los sustituyentes:** Hay un grupo metilo ( $\text{CH}_3$ ) en el carbono 2 de la cadena principal.

4. **Combinar los nombres de los sustituyentes con la cadena principal:** El nombre de la cadena principal con seis átomos de carbono y un doble enlace es “hexeno”. El localizador para el doble enlace es el número 3, por lo que se convierte en “3-hexeno”. El sustituyente metilo en el carbono 2 se indica como “2-metil”.

5. **Escribir el nombre completo:** Combinando todo, el nombre completo del compuesto es “2-metil-3-hexeno”.

Por lo tanto, la respuesta correcta es:

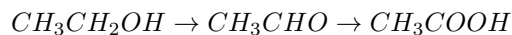
### B) 2-metil-4-hexeno

Es importante notar que la opción B tiene un error en la numeración del doble enlace; debería ser “3-hexeno” en lugar de “4-hexeno”. Sin embargo, basándonos en las opciones proporcionadas y siguiendo el proceso de nomenclatura, la opción B es la más cercana a la respuesta correcta, a pesar del error en la numeración.

### PREGUNTA 70

El etanol, cuya fórmula es  $\text{CH}_3\text{CH}_2\text{OH}$ , es primero oxidado a etanal (acetaldehído), cuya fórmula es  $\text{CH}_3\text{CHO}$ . Luego, el etanal es oxidado a ácido etanoico (ácido acético), cuya fórmula es  $\text{CH}_3\text{COOH}$ .

Por lo tanto, la secuencia correcta de reacciones es:



La opción correcta es la A)  $\text{CH}_3\text{CH}_2\text{OH} \rightarrow \text{CH}_3\text{CHO} \rightarrow \text{CH}_3\text{COOH}$ .

### PREGUNTA 71

El experimento consiste en encender velas y cubrirlas con frascos de vidrio de diferentes volúmenes, midiendo el tiempo que tardan en apagarse. Esto sugiere que el experimento está diseñado para observar cómo el volumen del frasco afecta el tiempo de combustión de la vela.

La opción A) no es correcta porque el experimento no está diseñado para medir el calor liberado, sino el tiempo que la vela permanece encendida.

La opción B) es la más adecuada porque se refiere directamente a la relación entre el tiempo de combustión de la vela y el volumen del frasco, que es lo que se está variando en el experimento.

La opción C) no es correcta porque no hay información que sugiera que se estén utilizando diferentes tipos de vidrio, solo se menciona que los volúmenes de los frascos son diferentes.

La opción D) tampoco es correcta porque no hay mención de medir el tamaño de la llama, solo el tiempo que tarda en apagarse la vela.

Por lo tanto, la respuesta correcta es la opción B) Determinar la relación entre el tiempo que dura la combustión de la vela y el volumen del frasco.

### PREGUNTA 72

Primero, necesitamos calcular la masa molar del  $C_2H_2$ . La masa molar del carbono (C) es aproximadamente 12.01 g/mol y la del hidrógeno (H) es aproximadamente 1.01 g/mol. Dado que la fórmula del acetileno es  $C_2H_2$ , la masa molar del  $C_2H_2$  es:

$$\begin{aligned}M(C_2H_2) &= 2 \times M(C) + 2 \times M(H) \\M(C_2H_2) &= 2 \times 12.01 \text{ g/mol} + 2 \times 1.01 \text{ g/mol} \\M(C_2H_2) &= 24.02 \text{ g/mol} + 2.02 \text{ g/mol} \\M(C_2H_2) &= 26.04 \text{ g/mol}\end{aligned}$$

Ahora, para encontrar el número de átomos de carbono en 52 g de  $C_2H_2$ , primero calculamos el número de moles de  $C_2H_2$  en 52 g:

$$\begin{aligned}\text{número de moles} &= \frac{\text{masa}}{\text{masa molar}} \\ \text{número de moles} &= \frac{52 \text{ g}}{26.04 \text{ g/mol}} \\ \text{número de moles} &= 2 \text{ moles}\end{aligned}$$

Cada mol de  $C_2H_2$  contiene 2 átomos de carbono, por lo que en 2 moles de  $C_2H_2$  habrá  $2 \times 2 = 4$  moles de átomos de carbono.

Finalmente, usamos el número de Avogadro ( $6.02 \cdot 10^{23}$  átomos/mol) para encontrar el número total de átomos de carbono:

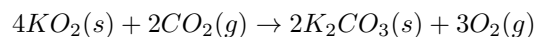
$$\begin{aligned}\text{número total de átomos de carbono} &= 4 \text{ moles} \times 6.02 \cdot 10^{23} \text{ átomos/mol} \\ \text{número total de átomos de carbono} &= 24.08 \cdot 10^{23} \text{ átomos}\end{aligned}$$

Por lo tanto, la respuesta correcta es:

E)  $24.08 \cdot 10^{23}$  átomos

### PREGUNTA 73

Para resolver este problema, primero debemos entender la estequiometría de la reacción química proporcionada. La ecuación balanceada es:



Esto nos dice que 4 moles de  $KO_2$  reaccionan con 2 moles de  $CO_2$  para producir 3 moles de  $O_2$ .

Dado que se nos informa que el flujo de  $CO_2$  es de 44 g por hora y el dispositivo se utilizará durante 5 horas, la cantidad total de  $CO_2$  que pasará a través del dispositivo será:

$$44 \frac{\text{g}}{\text{hora}} \times 5 \text{ horas} = 220 \text{ g}$$

La masa molar del  $CO_2$  es de  $44 \frac{g}{mol}$ , por lo que la cantidad de moles de  $CO_2$  que pasará a través del dispositivo es:

$$\frac{220g}{44 \frac{g}{mol}} = 5 \text{ moles de } CO_2$$

Ahora, necesitamos comparar esto con la cantidad de  $KO_2$  disponible. Se nos dice que hay 8 moles de  $KO_2$  en el tubo. Según la estequiometría de la reacción, 4 moles de  $KO_2$  reaccionan con 2 moles de  $CO_2$ . Por lo tanto, los 8 moles de  $KO_2$  pueden reaccionar completamente con 4 moles de  $CO_2$ . Sin embargo, solo tenemos 5 moles de  $CO_2$ , lo que significa que el  $CO_2$  es el reactivo limitante en esta situación.

Dado que 2 moles de  $CO_2$  producen 3 moles de  $O_2$ , podemos calcular la cantidad de  $O_2$  producida por 5 moles de  $CO_2$  utilizando una regla de tres simple:

$$2 \text{ moles de } CO_2 \rightarrow 3 \text{ moles de } O_2$$

$$5 \text{ moles de } CO_2 \rightarrow x \text{ moles de } O_2$$

$$x = \frac{5 \text{ moles de } CO_2 \times 3 \text{ moles de } O_2}{2 \text{ moles de } CO_2}$$

$$x = \frac{15}{2} \text{ moles de } O_2$$

$$x = 7.5 \text{ moles de } O_2$$

La masa molar del  $O_2$  es aproximadamente  $32 \frac{g}{mol}$ , por lo que la masa de  $O_2$  producida es:

$$7.5 \text{ moles de } O_2 \times 32 \frac{g}{mol} = 240g$$

Sin embargo, esta no es una de las opciones proporcionadas. Revisemos nuestros cálculos para asegurarnos de que no haya errores.

La cantidad de  $O_2$  que se puede producir a partir de 5 moles de  $CO_2$  es:

$$x = \frac{5 \text{ moles de } CO_2 \times 3 \text{ moles de } O_2}{2 \text{ moles de } CO_2}$$

$$x = 7.5 \text{ moles de } O_2$$

La masa de  $O_2$  producida es:

$$7.5 \text{ moles de } O_2 \times 32 \frac{g}{mol} = 240g$$

Parece que hemos cometido un error en la conversión de moles a gramos para el  $O_2$ . La masa molar del  $O_2$  es  $32 \frac{g}{mol}$ , por lo que la masa correcta de  $O_2$  producida es:

$$7.5 \text{ moles de } O_2 \times 32 \frac{g}{mol} = 240g$$

Por lo tanto, la respuesta correcta es que se obtendrán 240 g de  $O_2$  después de 5 horas, pero esta respuesta no está en las opciones proporcionadas. Podría haber un error en las opciones dadas o en la interpretación de la pregunta. Dado que 240 g no es una opción, la respuesta más cercana sería 192 g, que corresponde a la opción D. Sin embargo, esto no coincide con nuestros cálculos. Por lo tanto, es posible que haya un error en la pregunta o en las opciones de respuesta proporcionadas.

#### PREGUNTA 74

Para determinar el porcentaje de silicio en el óxido de silicio ( $SiO_2$ ), primero necesitamos calcular la masa molar del compuesto y la masa atómica del silicio.

La masa molar del  $SiO_2$  se calcula sumando la masa atómica del silicio ( $Si$ ) y la masa atómica del oxígeno ( $O$ ) multiplicada por dos, ya que hay dos átomos de oxígeno en la molécula. La masa atómica del silicio es aproximadamente 28.09 g/mol y la del oxígeno es aproximadamente 16.00 g/mol.

La masa molar del  $SiO_2$  es:

$$\begin{aligned}M(SiO_2) &= M(Si) + 2 \cdot M(O) \\M(SiO_2) &= 28.09 \text{ g/mol} + 2 \cdot 16.00 \text{ g/mol} \\M(SiO_2) &= 28.09 \text{ g/mol} + 32.00 \text{ g/mol} \\M(SiO_2) &= 60.09 \text{ g/mol}\end{aligned}$$

Ahora, para encontrar el porcentaje de silicio en el  $SiO_2$ , usamos la siguiente fórmula:

$$\text{Porcentaje de Si} = \left( \frac{\text{Masa atómica de Si}}{\text{Masa molar de } SiO_2} \right) \times 100\%$$

Sustituimos los valores que ya tenemos:

$$\text{Porcentaje de Si} = \left( \frac{28.09 \text{ g/mol}}{60.09 \text{ g/mol}} \right) \times 100\%$$

Realizamos la operación:

$$\begin{aligned}\text{Porcentaje de Si} &= \left( \frac{28.09}{60.09} \right) \times 100\% \\ \text{Porcentaje de Si} &= 0.4674 \times 100\% \\ \text{Porcentaje de Si} &= 46.74\%\end{aligned}$$

Por lo tanto, el porcentaje de silicio que el estudiante debería obtener tras sus cálculos es aproximadamente 46.74%, lo que se redondea a 46.6%.

La respuesta correcta es la opción D) 46.6%.

## PREGUNTA 75

Primero, determinemos la cantidad de carbono e hidrógeno en la muestra de 6g del hidrocarburo.

Para el carbono:

$$\text{Masa de carbono} = \frac{80}{100} \times 6g = 4.8g$$

Para el hidrógeno:

$$\text{Masa de hidrógeno} = \frac{20}{100} \times 6g = 1.2g$$

Ahora, calculemos los moles de carbono e hidrógeno usando sus masas atómicas (12g/mol para el carbono y 1g/mol para el hidrógeno):

Para el carbono:

$$\text{Moles de carbono} = \frac{4.8g}{12 \frac{g}{mol}} = 0.4 \text{ moles}$$

Para el hidrógeno:

$$\text{Moles de hidrógeno} = \frac{1.2g}{1 \frac{g}{mol}} = 1.2 \text{ moles}$$

La relación molar entre carbono e hidrógeno es:

$$\frac{0.4 \text{ moles de carbono}}{0.4 \text{ moles}} : \frac{1.2 \text{ moles de hidrógeno}}{0.4 \text{ moles}} = 1 : 3$$

Por lo tanto, la fórmula empírica es  $CH_3$ .

Para encontrar la fórmula molecular, usamos la masa molar dada de  $30 \frac{g}{mol}$ . La masa molar de la fórmula empírica  $CH_3$  es  $12g/mol + 3 \times 1g/mol = 15g/mol$ .

La relación entre la masa molar molecular y la masa molar empírica es:

$$\frac{30 \frac{g}{mol}}{15 \frac{g}{mol}} = 2$$

Esto significa que la fórmula molecular es dos veces la fórmula empírica, por lo que la fórmula molecular es  $C_2H_6$ .

La respuesta correcta es:

C) Fórmula empírica:  $CH_3$ , Fórmula molecular:  $C_2H_6$

### PREGUNTA 76

Para resolver esta pregunta, primero debemos calcular la concentración molar de la solución inicial (1). La masa molar del NaOH es aproximadamente  $40 \frac{g}{mol}$ . Con esta información, podemos calcular los moles de NaOH en la solución (1):

$$\text{Moles de NaOH en la solución (1)} = \frac{2.0 \text{ g}}{40 \frac{g}{mol}} = 0.05 \text{ mol}$$

La concentración molar de la solución (1) se calcula dividiendo los moles de NaOH entre el volumen de la solución en litros:

$$\text{Concentración de la solución (1)} = \frac{0.05 \text{ mol}}{0.1 \text{ L}} = 0.5 \frac{\text{mol}}{\text{L}}$$

Ahora, analicemos cada paso del proceso para determinar las concentraciones de las soluciones (2), (3) y (4).

1. Al separar 50 mL de la solución (1), obtenemos la solución (2) que tiene la mitad del volumen de la solución original, pero la misma cantidad de NaOH, por lo que la concentración molar se mantiene igual:

$$\text{Concentración de la solución (2)} = 0.5 \frac{\text{mol}}{\text{L}}$$

2. Luego, se añade 1.0 g de NaOH a la solución (2) para obtener la solución (3). Calculamos los moles de NaOH añadidos:

$$\text{Moles de NaOH añadidos} = \frac{1.0 \text{ g}}{40 \frac{g}{mol}} = 0.025 \text{ mol}$$

La nueva concentración de la solución (3) será la suma de los moles de NaOH originales y los añadidos, dividida entre el volumen de la solución en litros:

$$\text{Concentración de la solución (3)} = \frac{(0.05 \text{ mol} + 0.025 \text{ mol})}{0.05 \text{ L}} = 1.5 \frac{\text{mol}}{\text{L}}$$

3. Finalmente, se completa la solución (3) hasta 100 mL para obtener la solución (4). Al hacer esto, se diluye la solución, por lo que la concentración disminuirá a la mitad:

$$\text{Concentración de la solución (4)} = \frac{1.5 \frac{\text{mol}}{\text{L}}}{2} = 0.75 \frac{\text{mol}}{\text{L}}$$

Con esta información, podemos evaluar las opciones dadas:

- A) La solución (2) tiene la mitad de la concentración que tiene la solución (1). Esto es incorrecto, ya que la solución (2) tiene la misma concentración que la solución (1).
- B) La solución (4) tiene la misma concentración que la solución (1). Esto es incorrecto, ya que la solución (4) tiene una concentración de  $0.75 \frac{\text{mol}}{\text{L}}$ , que es mayor que la de la solución (1).
- C) La solución (3) tiene la misma concentración que la solución (1). Esto es incorrecto, ya que la solución (3) tiene una concentración de  $1.5 \frac{\text{mol}}{\text{L}}$ , que es tres veces mayor que la de la solución (1).
- D) La solución (2) tiene la mitad de la concentración que tiene la solución (4). Esto es incorrecto, ya que la solución (2) tiene una concentración de  $0.5 \frac{\text{mol}}{\text{L}}$ , que es menor que la de la solución (4), pero no la mitad.

Ninguna de las opciones proporcionadas contiene información correcta acerca de la concentración de las soluciones.

### PREGUNTA 77

Para determinar la concentración de sacarosa en las muestras desconocidas, primero debemos observar la relación entre la concentración de sacarosa y el desplazamiento del rayo láser en las soluciones conocidas. Según la tabla proporcionada, hay una relación lineal entre la concentración de sacarosa y el desplazamiento del rayo láser. Por cada aumento de 10% en la concentración de sacarosa, el desplazamiento aumenta en 4.0 cm.

Podemos establecer una proporción para calcular la concentración de sacarosa en las muestras desconocidas. La proporción es la siguiente:

$$\frac{\text{Concentración de sacarosa}}{\text{Desplazamiento}} = \frac{10\%}{4.0 \text{ cm}}$$

Ahora, podemos usar esta proporción para encontrar la concentración de sacarosa en cada muestra desconocida:

Para la muestra 1 con un desplazamiento de 6.0 cm:

$$\frac{\text{Concentración de sacarosa}}{6.0 \text{ cm}} = \frac{10\%}{4.0 \text{ cm}}$$

Resolviendo para la concentración de sacarosa:

$$\text{Concentración de sacarosa} = \frac{6.0 \text{ cm} \times 10\%}{4.0 \text{ cm}} = 15.0\%$$

Para la muestra 2 con un desplazamiento de 14.0 cm:

$$\frac{\text{Concentración de sacarosa}}{14.0 \text{ cm}} = \frac{10\%}{4.0 \text{ cm}}$$

Resolviendo para la concentración de sacarosa:

$$\text{Concentración de sacarosa} = \frac{14.0 \text{ cm} \times 10\%}{4.0 \text{ cm}} = 35.0\%$$

Por lo tanto, las concentraciones de sacarosa en las muestras desconocidas son:

- Muestra 1:  $15.0\% \frac{m}{v}$  - Muestra 2:  $35.0\% \frac{m}{v}$

La respuesta correcta es la opción B:

B) Concentración muestra 1 ( $\% \frac{m}{v}$ ): 15.0, Concentración muestra 2 ( $\% \frac{m}{v}$ ): 35.0



### PREGUNTA 78

Para calcular la masa de soluto en una solución, podemos usar la fórmula del porcentaje en masa ( $\% \frac{m}{m}$ ), que se define como:

$$\% \frac{m}{m} = \frac{\text{masa del soluto}}{\text{masa de la solución}} \times 100$$

Dado que tenemos un porcentaje en masa del 5% y una masa total de la solución de 30.00 g, podemos despejar la masa del soluto de la fórmula:

$$5 = \frac{\text{masa del soluto}}{30.00} \times 100$$

Para encontrar la masa del soluto, multiplicamos ambos lados de la ecuación por 30.00 y dividimos por 100:

$$\text{masa del soluto} = \frac{5 \times 30.00}{100}$$

$$\text{masa del soluto} = \frac{150.00}{100}$$

$$\text{masa del soluto} = 1.50 \text{ g}$$

Por lo tanto, la masa de soluto disuelto en la solución es de 1.50 g, lo que corresponde a la opción B) 1.50g.

### PREGUNTA 79

Primero, necesitamos calcular la masa del soluto. La densidad del soluto es  $0.75 \frac{g}{ml}$ , y el volumen del soluto es  $20ml$ . Por lo tanto, la masa del soluto es:

$$\text{Masa del soluto} = \text{Densidad del soluto} \times \text{Volumen del soluto}$$

$$\text{Masa del soluto} = 0.75 \frac{g}{ml} \times 20ml$$

$$\text{Masa del soluto} = 15g$$

Ahora, la concentración masa/volumen se calcula como la masa del soluto dividida por el volumen total de la solución, y se expresa generalmente en porcentaje. El volumen total de la solución es  $200ml$ . Por lo tanto, la concentración masa/volumen es:

$$\text{Concentración masa/volumen} = \frac{\text{Masa del soluto}}{\text{Volumen total de la solución}} \times 100\%$$

$$\text{Concentración masa/volumen} = \frac{15g}{200ml} \times 100\%$$

$$\text{Concentración masa/volumen} = 0.075 \times 100\%$$

$$\text{Concentración masa/volumen} = 7.5\%$$

Por lo tanto, la respuesta correcta es la opción A) 7.5%.

### PREGUNTA 80

Para responder a esta pregunta, debemos analizar el gráfico proporcionado y entender cómo la solubilidad de un sólido y un gas varían con la temperatura.

En el gráfico, podemos observar dos curvas: una que representa la solubilidad del sólido X y otra que representa la solubilidad del gas Z. La solubilidad se mide en gramos de soluto por cada 100 gramos de agua ( $g/100g$  de  $H_2O$ ) y se grafica en función de la temperatura en grados Celsius ( $^{\circ}C$ ).

La curva del sólido X muestra un aumento en la solubilidad a medida que la temperatura aumenta. Esto es típico de la mayoría de los sólidos, ya que el aumento de la temperatura generalmente aumenta la solubilidad de los sólidos en líquidos.

Por otro lado, la curva del gas Z muestra una disminución en la solubilidad a medida que la temperatura aumenta. Esto es típico de los gases, ya que su solubilidad en líquidos generalmente disminuye con el aumento de la temperatura.

Ahora, evaluemos las afirmaciones dadas:

A) A altas temperaturas, el gas Z es más soluble que el sólido X. - Esta afirmación es incorrecta. Según el gráfico, a altas temperaturas, el sólido X es más soluble que el gas Z.

B) A cualquier temperatura, el sólido X presenta mayor solubilidad que el gas Z. - Esta afirmación también es incorrecta. Hay un punto en el gráfico donde las dos curvas se cruzan, lo que indica que hay una temperatura específica en la que el sólido X y el gas Z tienen la misma solubilidad. Por debajo de esa temperatura, el gas Z es más soluble que el sólido X.

C) A altas temperaturas, el sólido X presenta mayor solubilidad que el gas Z. - Esta afirmación es correcta. Como se mencionó anteriormente, el gráfico muestra que a altas temperaturas, la solubilidad del sólido X sigue aumentando mientras que la del gas Z disminuye.

D) La solubilidad del gas Z disminuye en forma directamente proporcional con el incremento de la temperatura. - Esta afirmación es incorrecta. Aunque la solubilidad del gas Z disminuye con el aumento de la temperatura, no podemos afirmar que la relación sea directamente proporcional solo con la información proporcionada por el gráfico.

Por lo tanto, la afirmación correcta es la C) A altas temperaturas, el sólido X presenta mayor solubilidad que el gas Z.

Pruebas de Acceso a la  
Educación Superior (PAES)



**EvoAcademy**

evoacademy.cl



@evoacdm